
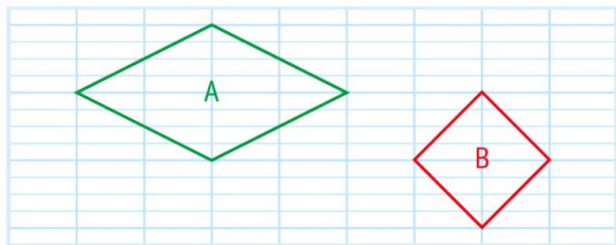



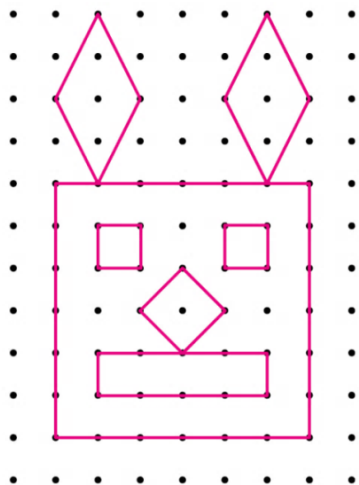
un carré, un rectangle, un losange

1 * Reproduis ces figures.



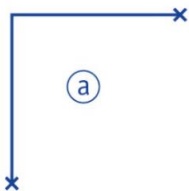
Comment se nomme la figure B ?

2 ** Reproduis cette figure.



3 * Complète ces deux figures pour obtenir :

a. un carré.



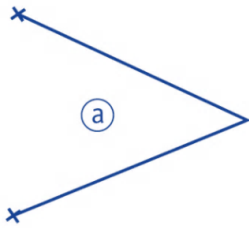
b. un rectangle.



CE2

un carré, un rectangle, un losange

4 * Complète ces figures pour obtenir deux losanges.



5 ** Trace :

a. un carré de 3 cm de côté.

b. un rectangle de 3 cm de largeur et 8 cm de longueur.

c. un losange de 4 cm de côté.

b.

a.

c.