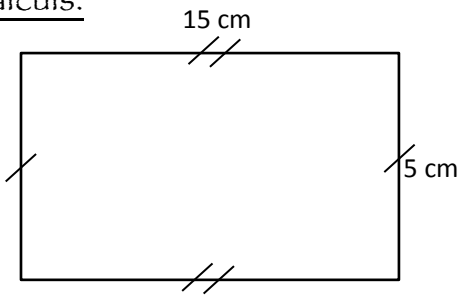
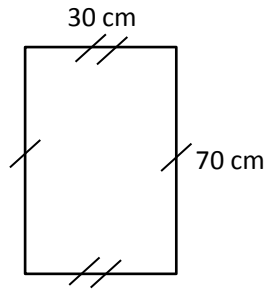
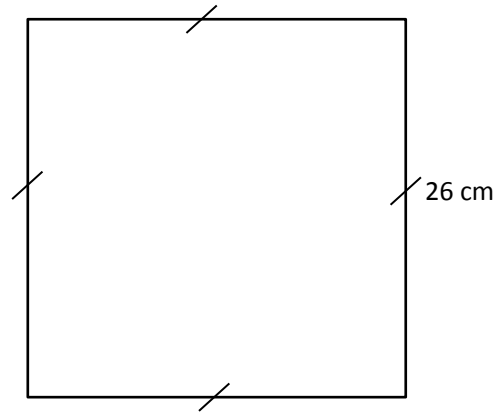


Objectif: Calculer le périmètre de polygones simples. Calculer la circonférence du cercle.

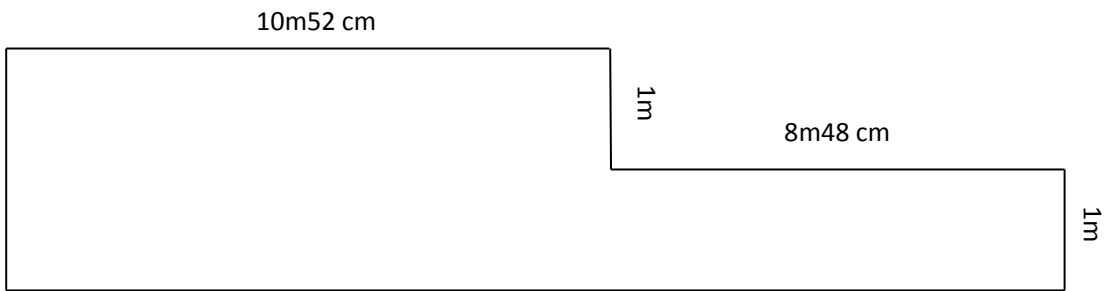
1. Calcule le périmètre de chaque quadrilatère, utilise les formules et indique tous les calculs.







2. Calcule le périmètre du salon en cm puis en mm



3. Calcule la circonférence :

a: d'un cercle de 8 cm de diamètre: _____

b: d'un cercle de 50 cm de rayon: _____

c: de ces cercles: _____

