

1 À l'aide de ton double décimètre, mesure les bandes suivantes.

_____cm

_____cm

_____cm

_____cm

_____cm

_____cm

_____cm

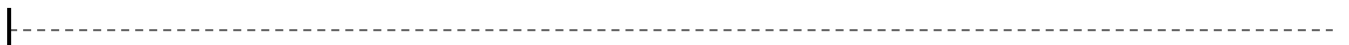
_____cm

2 Trace les segments demandés .

A



B



C



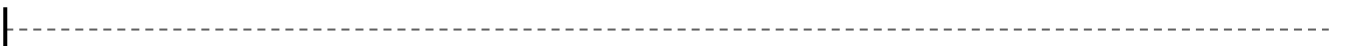
D



E



F



A 7 cm	C 12 cm	E 16 cm
B 3 cm	D 9 cm	F 14 cm

1 Colorie les bandes selon la longueur demandée.

15 cm

4 cm

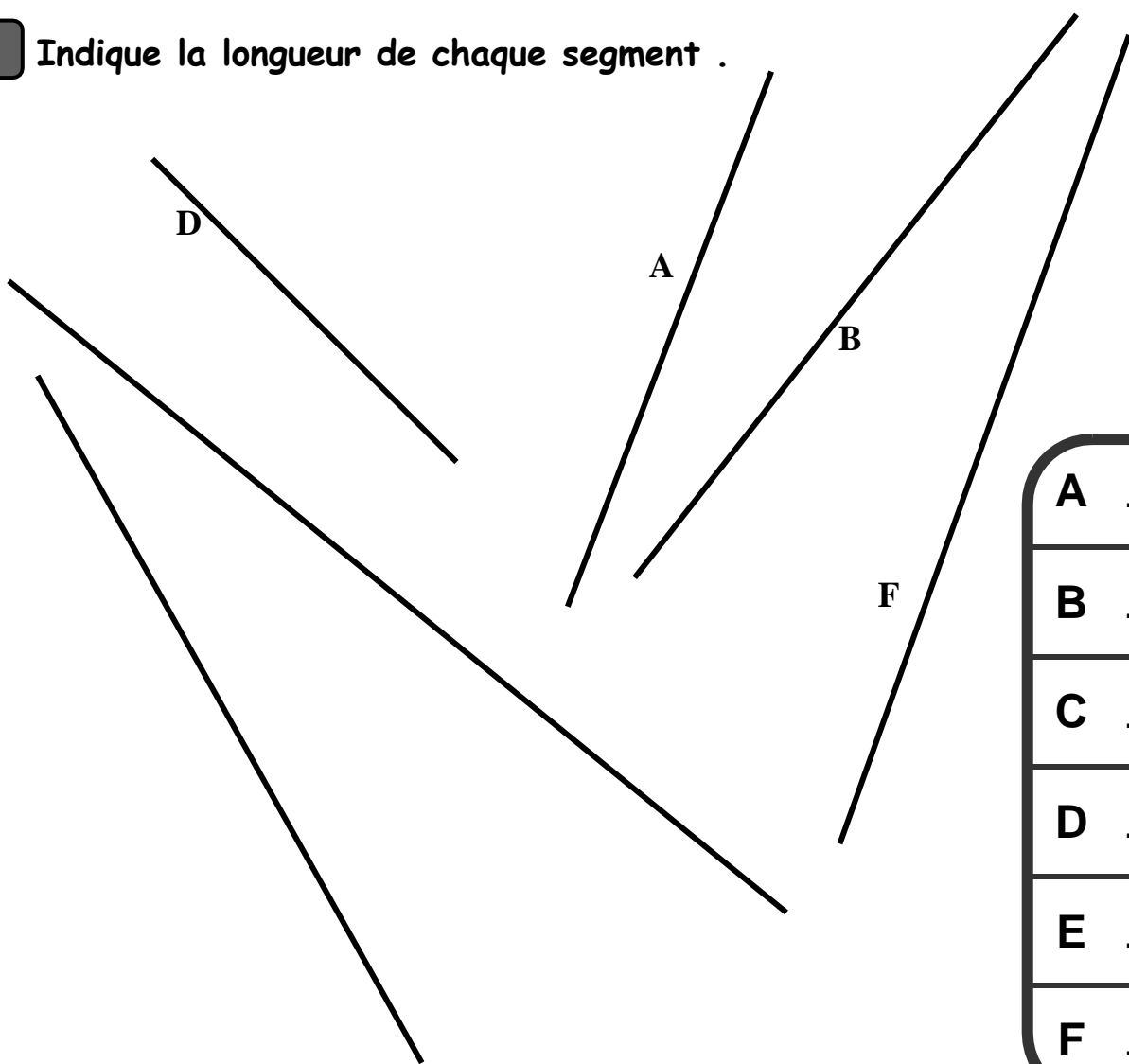
13 cm

8 cm

11 cm

10 cm

2 Indique la longueur de chaque segment .



A cm
B cm
C cm
D cm
E cm
F cm

