

Prénom : .....

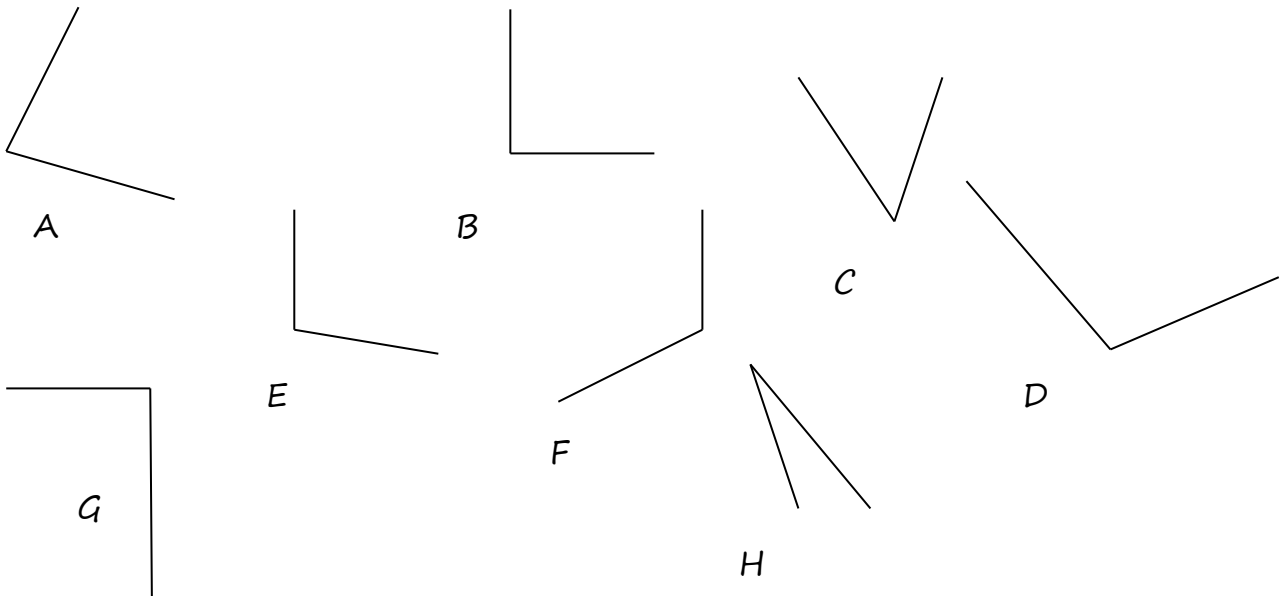
Date :

**EVALUATION DE GRANDEURS ET MESURES - CM1**

**Les angles**

Compétences évaluées

Comparer les angles d'une figure en utilisant un gabarit.	A	EVA	NA
Estimer et vérifier en utilisant l'équerre, qu'un angle est droit, aigu ou obtus.	A	EVA	NA



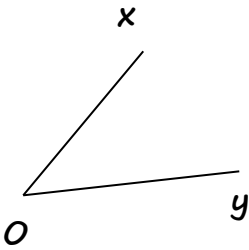
1. Complète le tableau puis classe des angles ci-dessus.

( / 6 )

Angle plus petit que l'angle droit ou angle.....	Angle droit	Angle plus grand que l'angle droit ou angle.....

2. Complète :

( / 3 )



O est le ..... de l'angle.  
[Ox) et [Oy) sont les ..... de l'angle.  
Colorie le secteur angulaire en bleu.

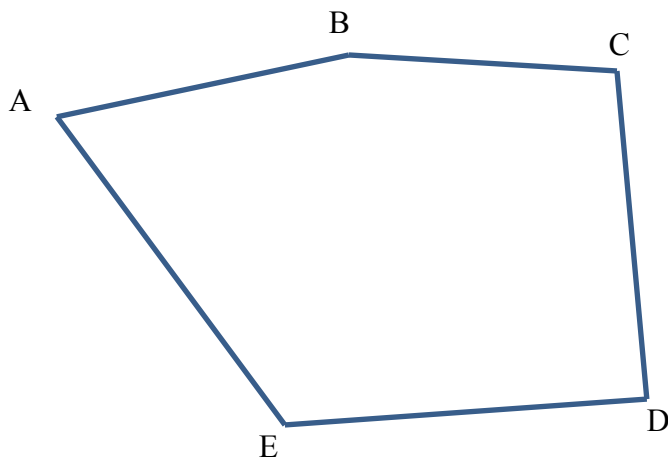
3. Trace :

( / 3 )

Un angle droit	Un angle obtus	Un angle aigu
----------------	----------------	---------------

4. Compare les angles de cette figure et classe-les du plus petit au plus grand.

( / 8 )



..... < ..... < ..... < ..... < .....