

Nom : .....

Date : .....

## Exercices

## Les quadrilatères et les parallélogrammes

## 1 Vrai ou faux. Colorie la bonne réponse.

- |  |                            |                            |
|--|----------------------------|----------------------------|
| Un quadrilatère a toujours 4 côtés .....                         | <input type="checkbox"/> V | <input type="checkbox"/> F |
| Un losange est un parallélogramme.....                           | <input type="checkbox"/> V | <input type="checkbox"/> F |
| Tous les quadrilatères ont 4 angles droits .....                 | <input type="checkbox"/> V | <input type="checkbox"/> F |
| Les diagonales d'un parallélogramme se coupent en leur milieu... | <input type="checkbox"/> V | <input type="checkbox"/> F |
| Un quadrilatère a plus de côtés que de sommets .....             | <input type="checkbox"/> V | <input type="checkbox"/> F |
| Les côtés d'un quadrilatère sont toujours parallèles .....       | <input type="checkbox"/> V | <input type="checkbox"/> F |

## 2 Qui suis-je ?

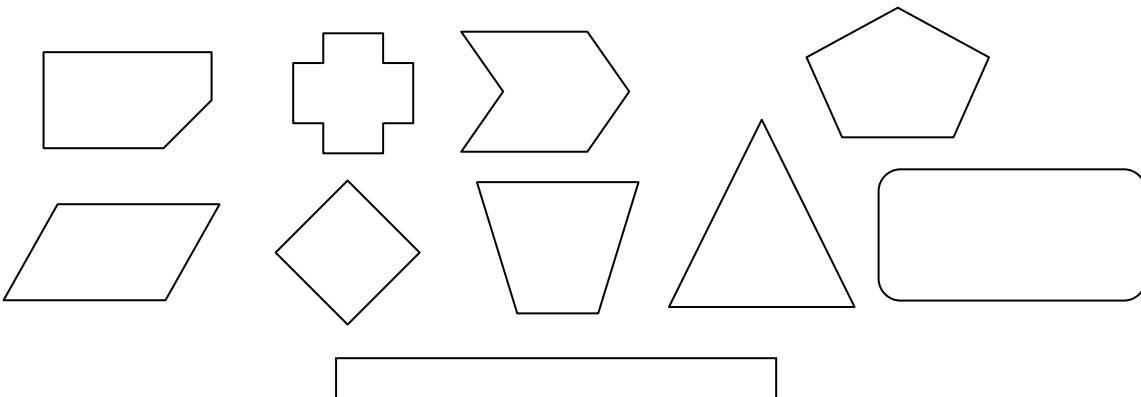
- A : • J'ai 4 côtés parallèles et égaux 2 à 2.  
• Je n'ai pas d'angle droit.  
• Mes diagonales sont perpendiculaires

Je suis un .....

- B : • J'ai 4 côtés parallèles tous égaux.  
• J'ai 4 angles droits.

Je suis un .....

## 3 Colorie les quadrilatères.



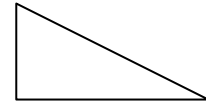

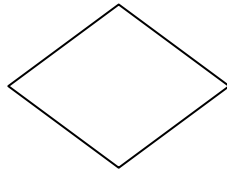
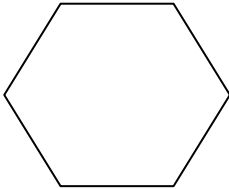
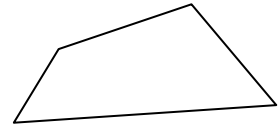
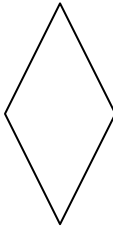
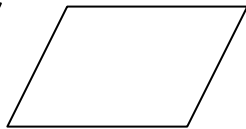
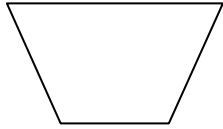
Nom : .....

Date : .....

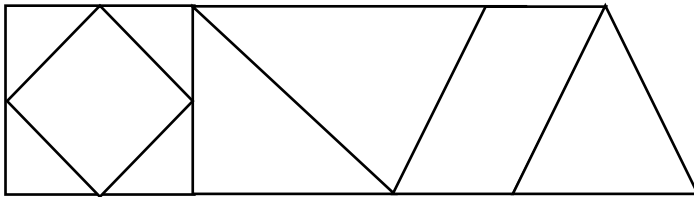
## Exercices

## Les quadrilatères et les parallélogrammes

4 Colorie les parallélogrammes.



5 Repasse chaque parallélogramme d'une couleur différente.



6 Construction

- 1- Trace un carré ABCD de 3cm de côté
- 2- Trace un losange EFGH dont les diagonales mesurent 3cm et 5cm.
- 3- Trace le rectangle MNOP ayant des diagonales de 6 cm

Nom : .....

Date : .....

Corrigé

## Les quadrilatères et les parallélogrammes

## 1 Vrai ou faux. Colorie la bonne réponse.

- |  |   |   |
|--|---|---|
| Un quadrilatère a toujours 4 côtés .....                         | V | F |
| Un losange est un parallélogramme.....                           | V | F |
| Tous les quadrilatères ont 4 angles droits .....                 | V | F |
| Les diagonales d'un parallélogramme se coupent en leur milieu... | V | F |
| Un quadrilatère a plus de côtés que de sommets .....             | V | F |
| Les côtés d'un quadrilatère sont toujours parallèles .....       | V | F |

## 2 Qui suis-je ?

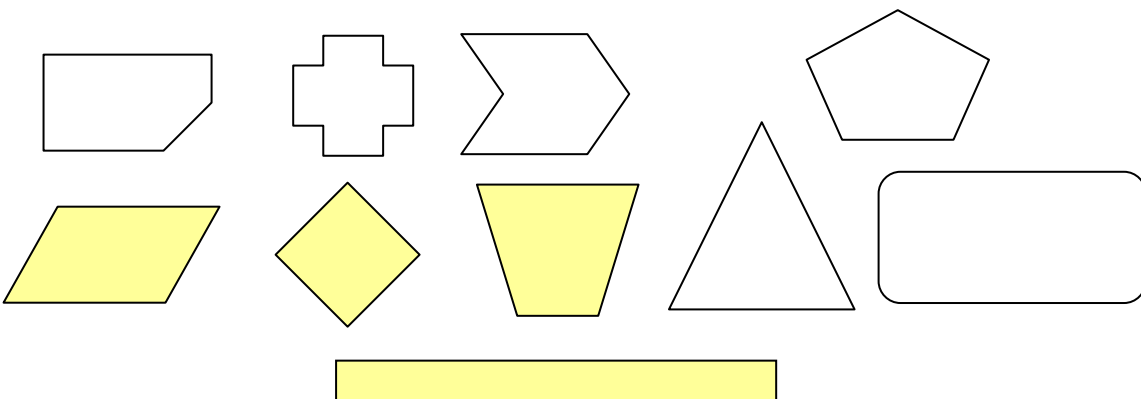
- A : • J'ai 4 côtés parallèles et égaux 2 à 2.  
• Je n'ai pas d'angle droit.  
• Mes diagonales sont perpendiculaires

Je suis un **losange**

- B : • J'ai 4 côtés parallèles tous égaux.  
• J'ai 4 angles droits.

Je suis un **carré**

## 3 Colorie les quadrilatères.



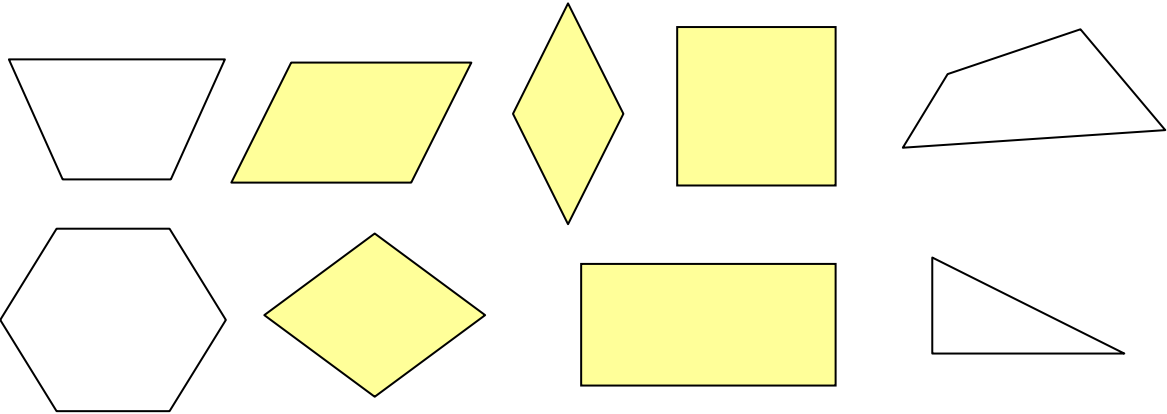
Nom : .....

Date : .....

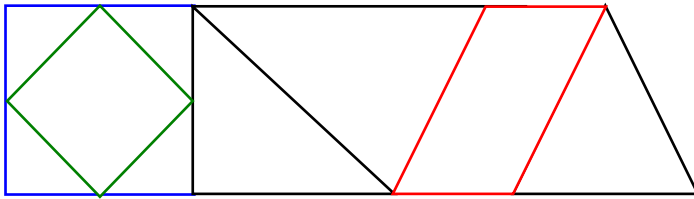
Corrigé

## Les quadrilatères et les parallélogrammes

4 Colorie les parallélogrammes.



5 Repase chaque parallélogramme d'une couleur différente.



6 Construction

- 1- Trace un carré ABCD de 3cm de côté
- 2- Trace un losange EFGH dont les diagonales mesurent 3cm et 5cm.
- 3- Trace le rectangle MNOP ayant des diagonales de 6 cm

