


Problème 1:

Carole fait un collier avec 12 perles.
4 de ces perles sont rouges.
Les autres perles sont vertes.
Combien y a-t-il de perles vertes dans son collier ?

- Souligne la question en rouge.
- Fais un schéma :



Dessin

Calcul

Résultat


Phrase-réponse


- Écris une égalité.
- Écris une phrase-réponse.

Problème 2:

Une tablette de chocolat coûte 3€.
Madame Benoît achète 4 tablettes.
Combien madame Benoît doit-elle payer ?

- Souligne la question en rouge.
- Fais un schéma :



Dessin

Calcul

Résultat

Phrase-réponse



- Écris une égalité.
- Écris une phrase-réponse.

Problème 3:

Monsieur Romani fait des courses.
Il dépense 18€ chez l'épicier et 10€ chez le boucher.

Combien monsieur Romani dépense-t-il en tout ?

- Souligne la question en rouge.
- Fais un schéma :



- Écris une égalité.
- Écris une phrase-réponse.

Dessin



Calcul



Résultat



Phrase-réponse



Problème 4:

Dans un parking, il y a 6 rangées de 10 places.
Combien y a-t-il de places dans ce parking ?

- Souligne la question en rouge.
- Fais un schéma :



- Écris une égalité.
- Écris une phrase-réponse.

Dessin



Calcul



Résultat



Phrase-réponse




Problème 5:

Dans un magasin de jouets, les poupées sont vendues 5€ l'une.

Une grand-mère achète 4 poupées pour ses petites-filles.

Combien doit-elle payer ?

- Souligne la question en rouge.
- Fais un schéma :



Dessin



Calcul



Résultat



Phrase-
réponse



- Écris une égalité.
- Écris une phrase-réponse.