

Mardi 5 mai 2020

-----matin-----

-Cahier d'écrivain : Invente un shitori, le plus long possible. Je suis sûre que tu peux atteindre dix mots !

Je te donne un exemple : seulement-mentir-tirer

-Français : Littérature

-Prends ton livre de lecture : « La fabuleuse découverte des îles du dragon » de la page 24 à la page 26 :12 avril et 13 avril. Lis cet extrait silencieusement puis oralement.

-Réponds au questionnaire de lecture. (Tu peux le télécharger dans les pièces jointes)

-Tu fais ces exercices dans ton cahier de français.



12 et 13 avril

Qu'attendent les dragons pour sortir le matin ? _____

Explique cette phrase :

« Toujours aucun signe de vie humaine dans cet archipel. »

Donne le nom des bêtes féroces qui se jettent sur eux le 13 avril ? _____

Explique ce que c'est comme animal.

Raconte le mythe qui l'entoure.

Lexique

Qu'est-ce qu'un lagon ? _____

Donne le singulier de « les cieux » : _____

Dessin

Dessine ce nouvel animal.

-Anglais :Let's play

-Visionne cette vidéo en suivant ce lien :

<https://vimeo.com/89038437>

-Lis l'aide suivante :

LET'S PLAY



VOCABULAIRE

game	jeu
idea	idée
it's your turn	c'est ton tour
very easy	très facile
you're right	tu as raison
caterpillar	chenille
which	quel (ou : lequel)

to wait	attendre
to give up	abandonner
to begin	commencer
to play	jouer



Sarah: **I want to play.**
 John : **Which game ?**
 Sarah: **I don't know !**
 John : **I've got an idea : mimes !**
 Sarah: **Oh yes, I love mimes.**
 John : **You begin.**
Sarah fait des grimaces et des sauts.
 John : **Very easy. It's a monkey !**
 Sarah : **You're right. It's your turn now.**
John bat des ailes.
 Sarah : **I know ! It's a bird.**
 John : **You're right. It's your turn.**
Sarah se déplace à plat ventre.
 John : **A snake ?**
 Sarah : **No.**
 John : **A crocodile !**
 Sarah : **No.**
 John : **Wait.... (il réfléchit) A spider !**
 Sarah : **No (elle continue à mimer).**
 John : **I give up !**
 Sarah : **I was a caterpillar.**


-Ecoute à nouveau le dialogue et choisis un personnage(John ou Sarah) et essaie de jouer son rôle.

-Effectue ensuite les activités :

ACTIVITÉS / Let's play

MOTS CROISÉS :

- 1 araignée
- 2 chenille
- 3 serpent
- 4 idée
- 5 attends
- 6 deux
- 7 jeu
- 8 singe
- 9 je sais
- 10 facile



TRADUIS :

Joue ! Ne joue pas !

Attends! N'attends pas !

Je commence Tu commences

Quel jeu ? Quel garçon ?

-Je te propose la correction :

->mots croisés :

Araignée : spider

Chenille : caterpillar

Serpent :snake

Idée :idea

Attends :wait

Deux :two

Jeu :game

Singe :monkey

Je sais : I know

Facile :easy

->Traduction :

Joue ! : Play !

Attends !: Wait !

Je commence. : I begin.

Quel jeu ? : Which game ?

Ne joue pas. : Don't play.

N'attends pas. : Don't wait.

Tu commences : You started.

Quel garçon ? : Which boy ?

-Mathématiques :

1) MiniTest Kangourou

*Je te propose dans un premier temps de débiter par un MiniTest du jeu concours Kangourou. Nous passerons le concours jeudi. J'ai envoyé un mail à tes parents qui détaille ses modalités.

Nous allons donc nous entrainer en effectuant ces exercices. Tu peux effectuer ce travail sur ton ardoise ou dans ton cahier de mathématiques. N'efface pas tes calculs.Tu pourras les corriger ensuite.

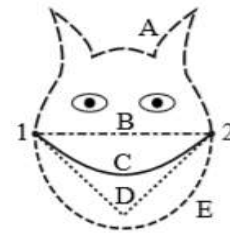
Relis les aides suivantes avant de réaliser les calculs.

Allez c'est parti !

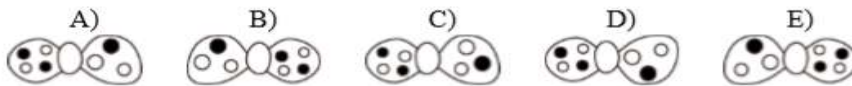
K04E02

1 Quelle est la ligne la plus courte entre 1 et 2 ?

- A) ----- A
- B) B
- C) ——— C
- D) D
- E) ----- E



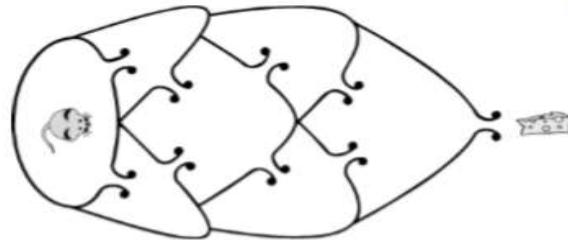
2 L'image ci-contre montre le clown Pipo tel que nous le voyons. Que voit Pipo quand il regarde son nœud papillon dans un miroir ?



K16E06

3 La souris veut atteindre le fromage. De combien de manières différentes peut-elle le faire sans passer deux fois par le même passage ?

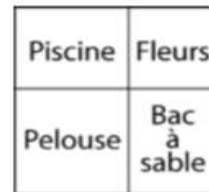
- A) 2 B) 4 C) 5
- D) 6 E) 7



K16E13

4 Un jardin, de forme carrée, est divisé en quatre parties comme le montre le dessin : une piscine, un bac à sable, un carré de fleurs et une pelouse carrée, elle aussi. Le périmètre de la pelouse est 20 m et celui du carré de fleurs est 12 m. Quel est le périmètre de la piscine ?

- A) 10 m B) 12 m C) 14 m D) 16 m E) 18 m



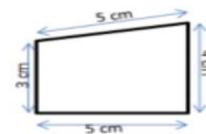
K08E20

Petite aide pour le périmètre :

- La longueur du contour d'une figure s'appelle le **périmètre**.
- On **calcule le périmètre** d'un polygone en additionnant la longueur de tous ses côtés :

$$P = 5 + 4 + 5 + 3 = 17$$

Le périmètre de ce polygone est de 17 cm.



- Pour certains polygones, on utilise des **formules** pour simplifier les calculs.



Périmètre du carré

côté x 4

$c \times 4$

$3 \times 4 = 12 \text{ cm}$

-Je te propose maintenant la correction :

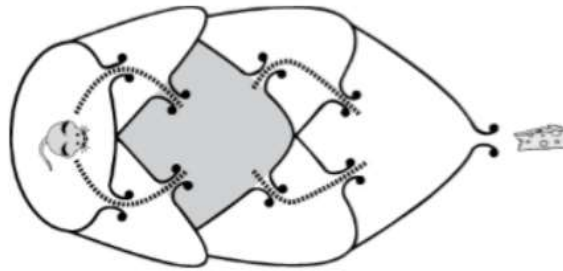
- 1 Réponse B.
La ligne la plus courte est la ligne droite.

K04E02

- 2 Réponse A.
La partie à trois points du nœud papillon de Pipo est du côté de son épaule droite. Quand Pipo se regarde dans le miroir, il voit cette partie à droite avec le point noir au-dessus des deux points blancs (comme dans le dessin A).

K16E06

- 3 Réponse B.
La souris a 2 possibilités pour se rendre du départ à la pièce centrale (grisée sur le dessin). De la pièce centrale à la dernière pièce (qui donne accès au fromage), la souris a aussi 2 possibilités.
La souris a donc 2×2 , soit 4 manières d'aller jusqu'au fromage sans passer deux fois par le même passage.



K16E13

- 4 Réponse D.
Le carré de pelouse de périmètre 20 m a son côté égal à 5 m ($20 : 4 = 5$).
 $12 : 4 = 3$, le côté du carré de fleurs est donc 3 m.
La piscine est donc un rectangle de longueur 5 m et de largeur 3 m.
 $5 + 5 + 3 + 3 = 16$. Le périmètre de la piscine est 16 m.

K08E20

-Continuons d'étudier les triangles :

-Prends maintenant ton fichier Bout de gomme (grand fichier violet) : « Je réussis en géométrie au CM2 ».

Effectue les exercices suivants p 27 n°2 a)b) (Ne fais pas le 2) c) !) , p 28 n°1 et p 35 n°1 et 2.


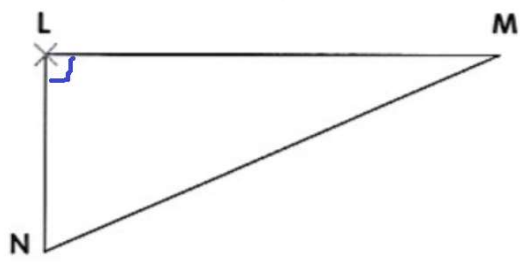
Attention, n'oublie pas de vérifier ton travail en mesurant à nouveau les longueurs de chaque segment, en nommant les sommets, en codant les segments égaux et en indiquant les angles droits.

-Je te propose la correction :

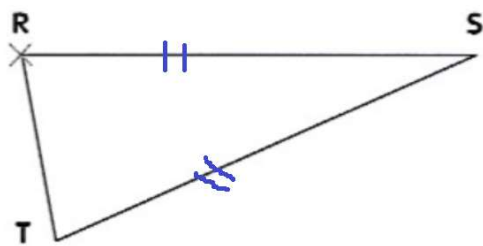
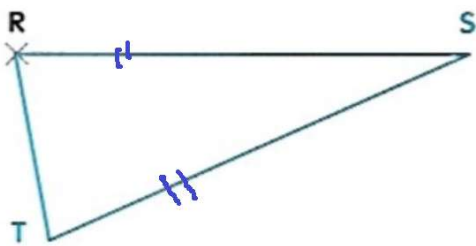
->P27 n°2 :

2 Lis les consignes, puis trace.

a. Reproduis ce triangle rectangle à l'identique.



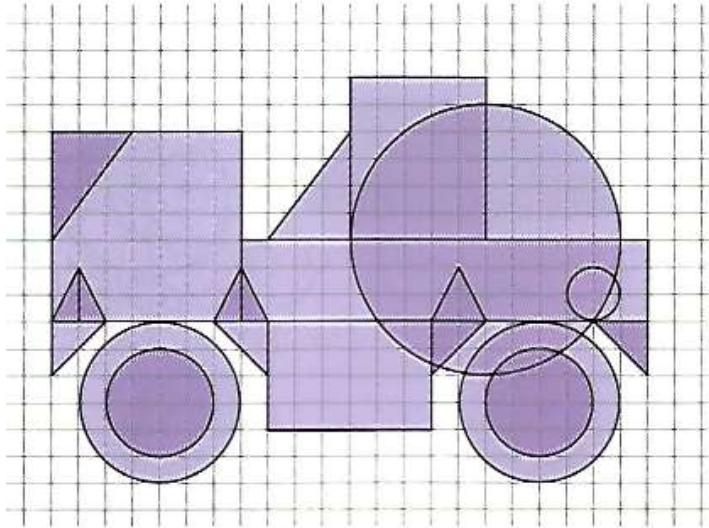
b. Reproduis ce triangle à l'identique.



->P28 n°1 : Tu peux vérifier ton travail en décalquant le triangle ABC composé de tous ses triangles puis le superposer sur ton triangle tracé.

->P35 n°1 et 2 :

1 Observe cette figure et complète le tableau.




Figures

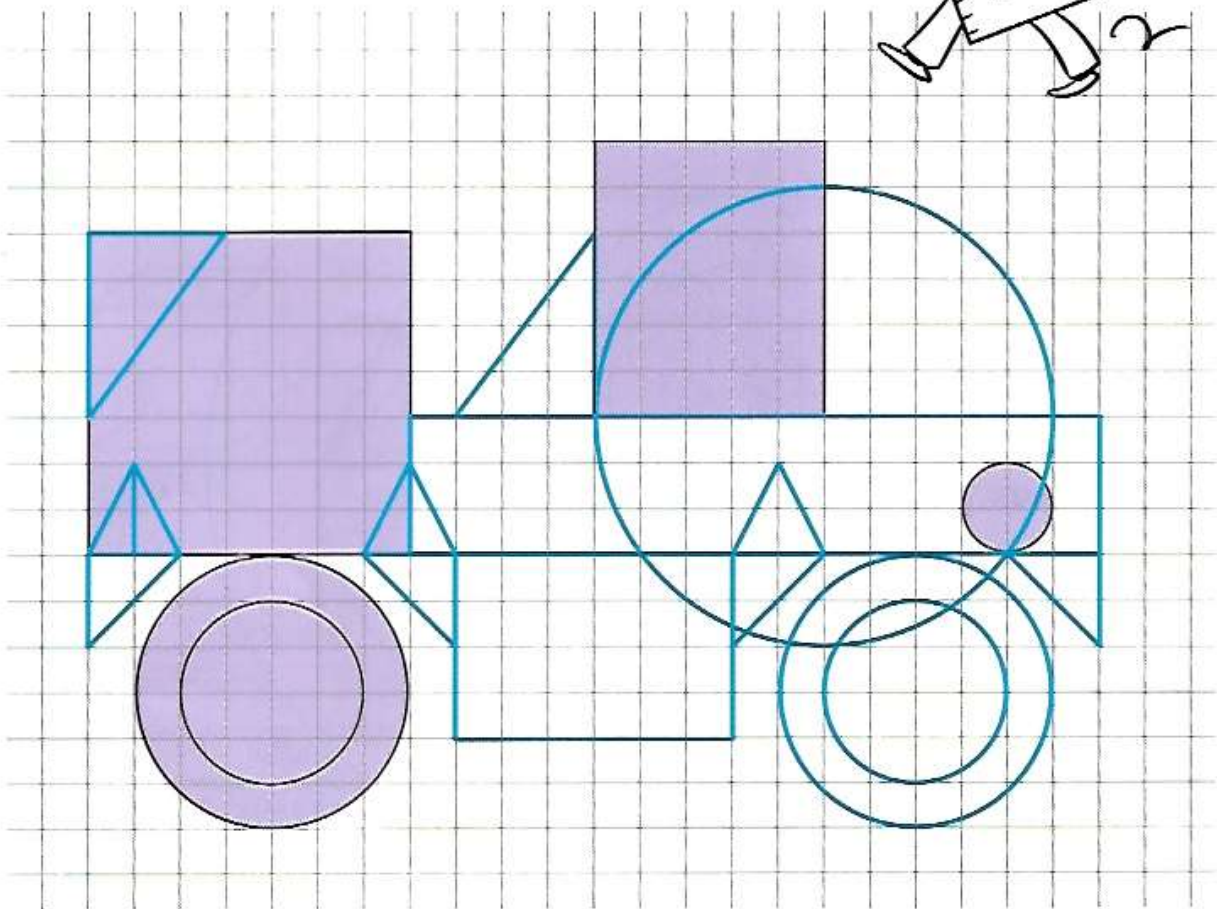
Nombre

Carrés	1
Rectangles	3
Triangles isocèles	3
Triangles rectangles	2
Triangles isocèles rectangles	4
Cercles	6

Vérifie bien que tu n'as oublié aucune figure !



2 Reproduis la figure sur le quadrillage.



-----Après-midi-----

Sciences : LA REPRODUCTION SEXUEE DES ANIMAUX

Durant 4 séances, nous allons aborder la reproduction sexuée des animaux.

-1- La distinction ovipare/ vivipare

Voici une vidéo à regarder...

<https://www.youtube.com/watch?v=upuQop70nEQ>

-2- Lis le texte que je te propose et complète la page de droite. (Tu peux télécharger ce document)

Tu peux la coller dans ton cahier de sciences (« le vivant »)

-Français : dictée

-Prends ton cahier du jour et essaie de te faire dicter les deux premières phrases (C'était une bien jolie **souris**, le **museau** rose, les **moustaches** grises, le **corps** allongé et les **pattes** fines. Elle avait la **queue** frétilante, le **poil** luisant, les **yeux** brillants.)

-N'oublie pas de passer des lignes

-Relis ta production puis corrige-la.

-Le nombre des noms

-Je te propose la correction des exercices 6 et 7 p 69 :

->n°6p69 :

- 1-Les journaux adorent les nouvelles sensationnelles.
- 2-Ce collectionneur possède plus de cinquante chapeaux.
- 3-Le naufragé envoie des signaux de détresse.
- 4-Les animaux ne sont pas toujours bien traités.
- 5-Les médecins essaient de soulager les hommes de leurs maux.

->n°7 p 69

- 1-Ces chiens ont joué dans un feuilleton à la télévision.
- 2-Les orques et les dauphins sont les attractions du parc nautique.
- 3-Les succès récompensent les organisateurs.
- 4-Ces entraîneurs ont découvert de nouveaux numéros.
- 5-Ces séries policières sont mes préférées.

-Fais l'exercice n° 8 p 70.

-Je te propose la correction :

1-Il arrive qu'un animal devienne une véritable vedette de cinéma.

2-Cheval de guerre raconte les aventures des chevaux pendant la guerre.

3-Ce film évoque un évènement authentique.

4-Les journaux racontent les voyages des chats perdus.

5-Le spectateur est ému par la plus belle histoire.

Ensuite, prends ton livre de français p 75 et effectue l'activité 1 . Tu dois reconstituer les phrases.

***Le quart d'heure de lecture** :bonne lecture !

Installe-toi confortablement...tu peux même dessiner au fil de l'histoire. Je serai ravie de découvrir vos dessins.

Si tu le souhaites, tu peux m'en envoyer un par mail.

->Je te propose une nouvelle écoute : Le grand voyage de Christophe Colomb : 1492, la découverte de l'Amérique (1^{er} épisode)

<https://www.franceinter.fr/emissions/les-odyssees/le-grand-voyage-de-christophe-colomb-1492-la-decouverte-de-l-amerique-1e-episode>

->Je te propose une nouvelle écoute, si tu as déjà entendu la première écoute proposée : 1492, la découverte de l'Amérique (2^{ème} épisode)

<https://www.franceinter.fr/emissions/les-odyssees/le-grand-voyage-de-christophe-colomb-1492-la-decouverte-de-l-amerique-2e-episode>

Voilà ta journée est terminée, A jeudi !