

1-Écrire un nombre

Écris les nombres dans lesquels tu entends 8



2- Écris le nombre en lettres.

BANQUE de l'écolier

Payez contre ce chèque

€uros

953 €

Payable en France

Banque de l'écolier

75 020 PARIS

N° de compte

M. L'appliqué

1, rue de la réussite

28120 ACQUIS

Fait à

Le

J. M. L'appliqué

3- Écrire un nombre par recomposition $60 + 200 + 5$

Ecris le nombre

35 d et 12u

c'est ...



4-Compare deux nombres // Range ces trois nombres dans l'ordre croissant/ Décroissant /

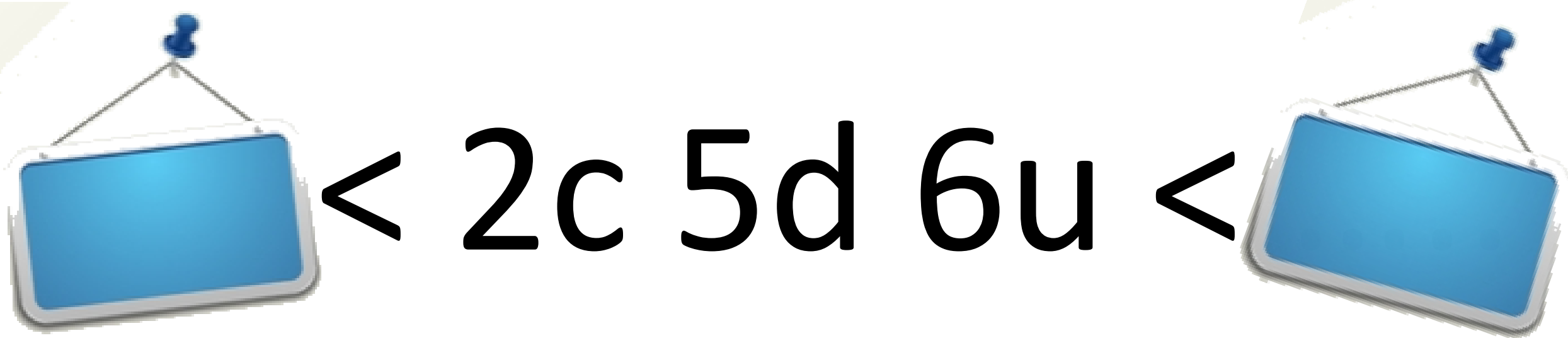
Compare



$$400 + 30 + 7 \quad \dots \quad 473$$


5-Encadrer un nombre à l'unité, à la dizaine, à la centaine

Encadre ce nombre à la centaine.




6- Continue la suite des nombres (écris les trois nombres suivants en appliquant la règle) / Ajouter, soustraire deux nombres

Continue Calcule



7- Compléter à la dizaine sup , à la centaine sup / Compléter à un nombre ex. $43 + \dots = 65$ ou avec retenue
 $46 + \dots = 65$


Complète



$$153 + \dots = 166$$


8-

Écris la valeur du chameau et celle de l'éléphant.



9- Donner une somme par lecture et calcul des pièces et billets en euros et en centimes d'euros.

Quelle est cette somme ? N'oublie pas l'unité !



10- Poser et calculer une addition, une soustraction (rapidement)

Pose et calcule La différence entre 482 et 132

