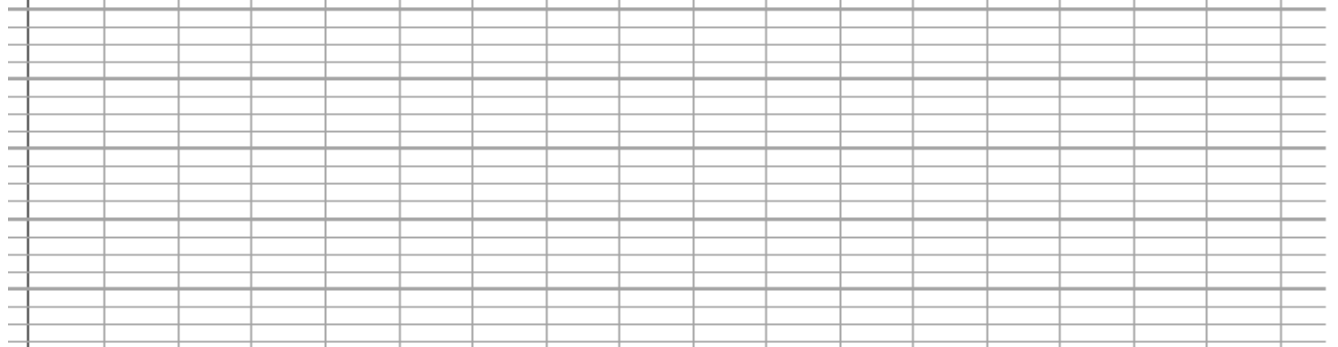




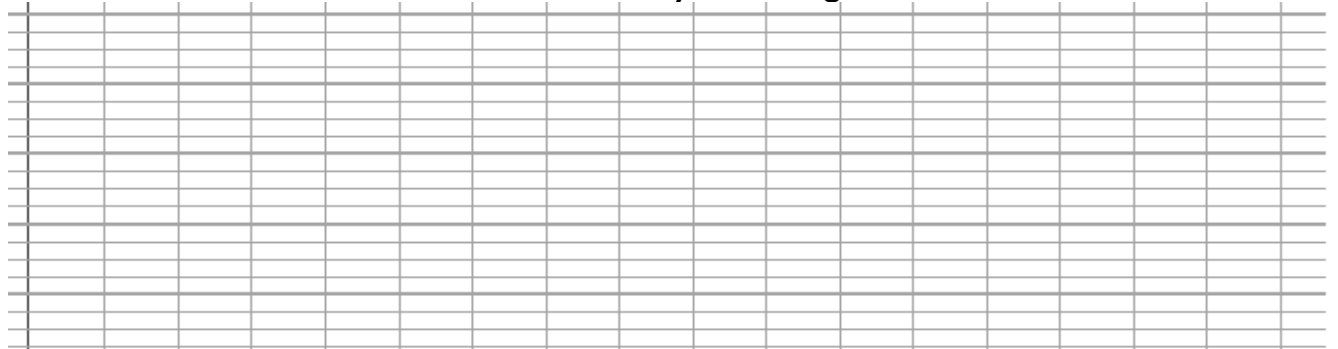
## 4/5 – Problèmes

4- Un automobiliste roule entre Clermont-Ferrand et Lyon à la vitesse de 90 km/h. Les deux villes sont distantes de 180 km.

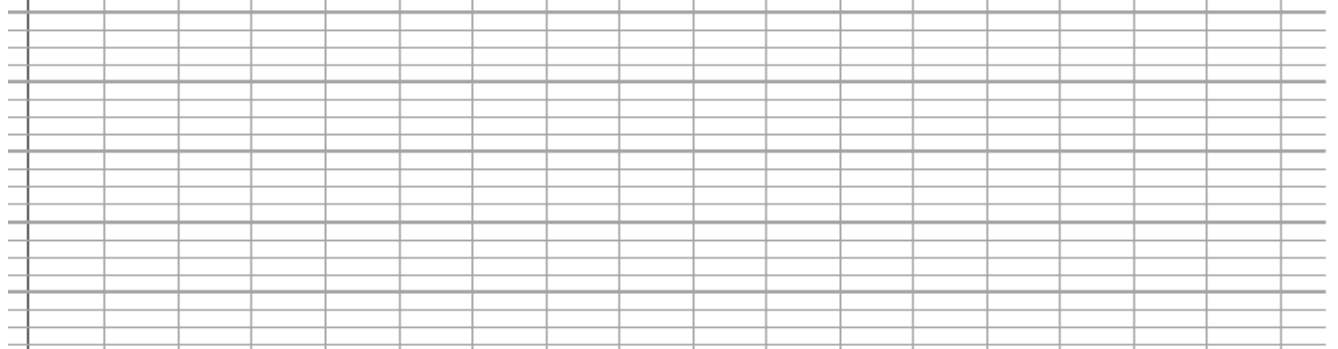
a. **Quel temps faut-il à cet automobiliste pour parcourir cette distance ?**



b. Pour aller de Lyon à Angers, à la même vitesse moyenne, il faudrait 6 heures. **Quelle est la distance entre Lyon et Angers ?**



5- Pour aller de Lyon à Bourg-en-Bresse distantes de 60 km, un automobiliste met 45 min. **A quelle vitesse moyenne a-t-il roulé ?**



6 – Rédige un message pour construire la figure p 153 (imagine que celui qui doit la construire ne la voit pas).

