


Comment se déplacer dans un territoire ?



1944 : trolleybus sur roues fonctionnant à l'électricité dans les rues du Mans. Les premiers transports en commun apparaissent dans la ville.



1977 : développement des transports urbains collectifs. Des couloirs de circulation réservés aux bus sont créés sur la chaussée, permettant aux véhicules de transport en commun de se déplacer plus rapidement.



2007 : inauguration de la ligne de tramway. Les moyens de transports urbains collectifs se développent pour répondre à la demande des habitants. Une nouvelle organisation des déplacements des personnes est mise en place.

Doc. 1

Historique des moyens de transports urbains collectifs, Le Mans, dans la Sarthe (Pays de la Loire).

Depuis quand les transports collectifs existent-ils dans cette ville ?

.....

Quels sont les modes de transport présentés ?

Où les bus circulent-ils ? Pourquoi ?

.....


Que s'est-il passé en 2007 ? Pour quelles raisons ?

.....

Comment se déplacer dans un territoire ?




1944 : trolleybus sur roues fonctionnant à l'électricité dans les rues du Mans. Les premiers transports en commun apparaissent dans la ville.



1977 : développement des transports urbains collectifs.

Des couloirs de circulation réservés aux bus sont créés sur la chaussée, permettant aux véhicules de transport en commun de se déplacer plus rapidement.



2007 : inauguration de la ligne de tramway. Les moyens de transports urbains collectifs se développent pour répondre à la demande des habitants. Une nouvelle organisation des déplacements des personnes est mise en place.

Doc. 1

Historique des moyens de transports urbains collectifs, Le Mans, dans la Sarthe (Pays de la Loire).

Depuis quand les transports collectifs existent-ils dans cette ville ? **1944**

Quels sont les modes de transport présentés ? **Le trolleybus, le vélo, le bus, la voiture, le camion, le tramway.**

Où les bus circulent-ils ? Pourquoi ?

Les bus circulent sur la chaussée, mais sur des voies qui leur sont réservées pour un déplacement plus rapide.

Que s'est-il passé en 2007 ? Pour quelles raisons ?

L'inauguration du tramway, pour répondre à la demande de déplacement des usagers.

Comment se déplacer dans un territoire ?

Les modes de transport urbain ont changé dans le temps. Ils se sont adaptés aux besoins des usagers. Les élus organisent les déplacements dans la ville

Comment se déplacer dans un territoire ?

Géographie cycle 3



Doc. 2
Plan de lignes de transport de la ville du Mans, dans la Sarthe (Pays de la Loire).

À quoi sert ce document ?
.....
.....
À qui sert-il ?
.....

Écris les noms des villes situées à proximité :
.....

Comment se déplacer dans un territoire ?



Doc. 2
Plan de lignes de transport de la ville du Mans, dans la Sarthe (Pays de la Loire).

À quoi sert ce document ?
Un plan de lignes de transport de la ville du Mans.
À qui sert-il ? **À tous ceux qui souhaitent se déplacer dans cette ville.**

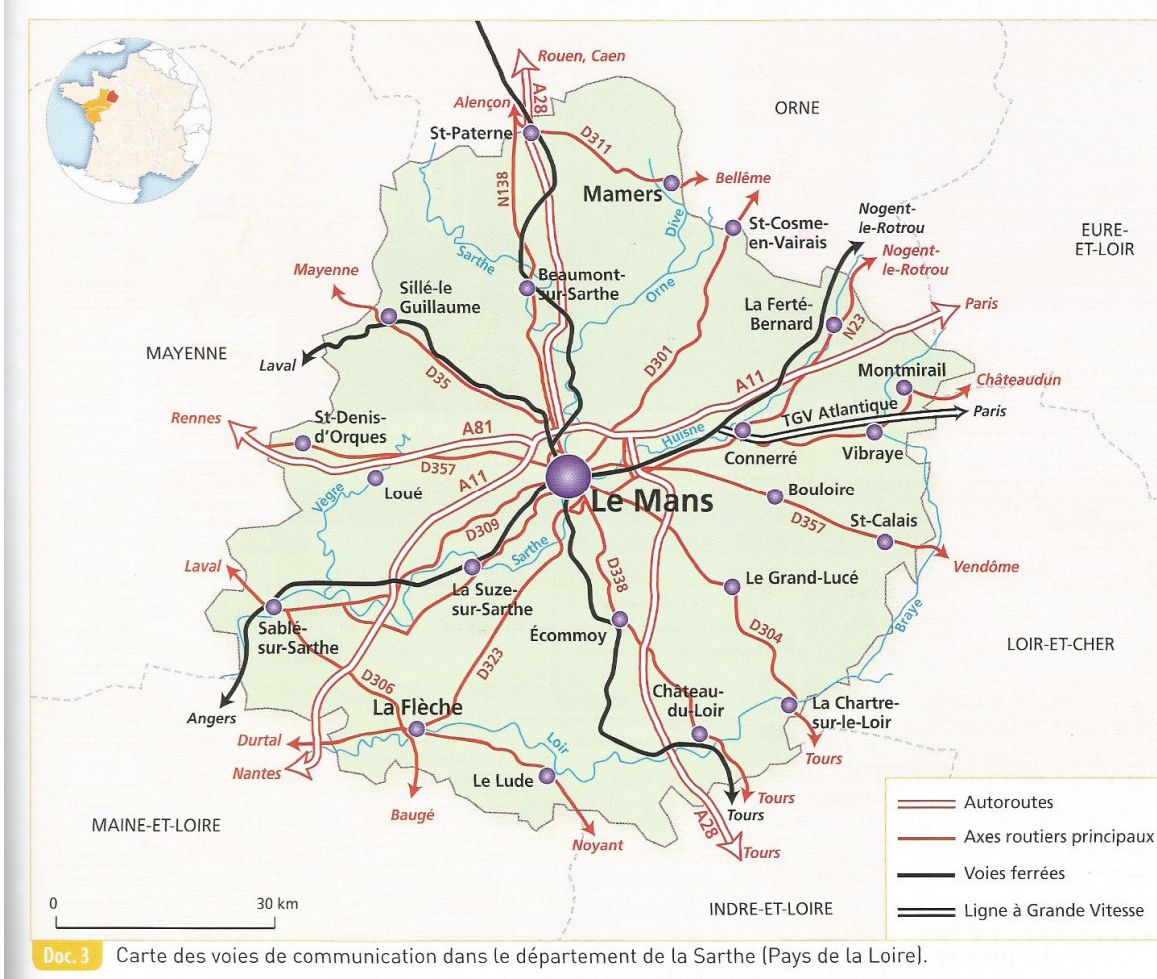
Écris les noms des villes situées à proximité :
La Chapelle-Saint-Aubin, Yvré-l'évêque, Mulsanne, Arnage, Allones, Rouillon.

Comment se déplacer dans un territoire ? (suite)

Un plan de lignes de transport sert à choisir son mode de déplacement.

Lorsque je lis un plan, je fais attention au titre et à la légende pour comprendre les différents symboles. Je localise mon point de départ puis mon point d'arrivée et je cherche quelle ligne relie ces deux points.

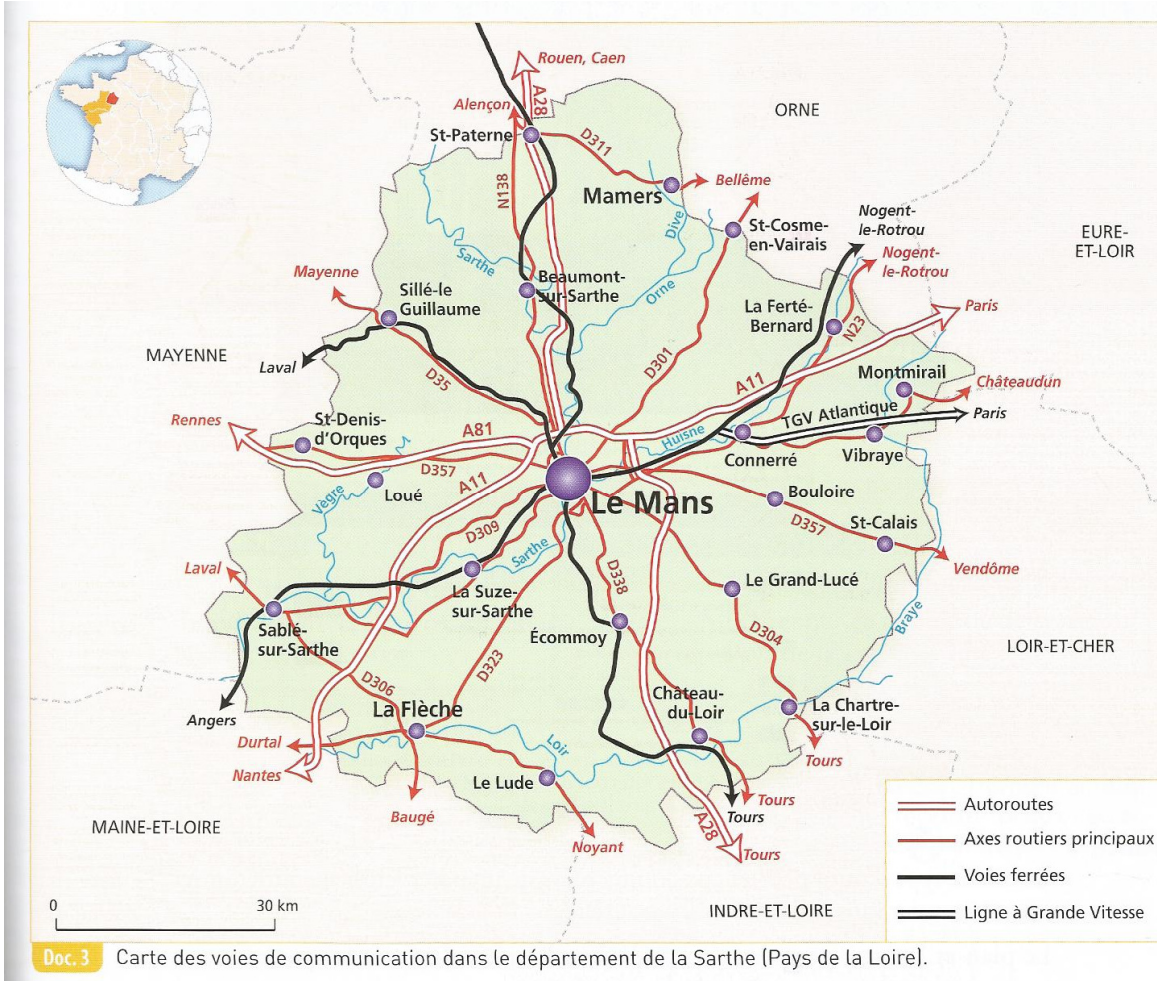
Comment se déplacer dans un territoire ?



Lis la légende, recherche les symboles.

Quels sont les modes de transport présentés ?
.....
De la Ferté-Bernard à Château du Loir, qu'utiliserais-tu pour faire le trajet ?
.....
.....

Comment se déplacer dans un territoire ?



Lis la légende, recherche les symboles.

Quels sont les modes de transport présentés ? **La route et les autoroutes, les voies de chemin de fer.**

De la Ferté-Bernard à Château du Loir, qu'utiliserais-tu pour faire le trajet ?

- **Le train avec un changement probable au Mans,**
- **par l'autoroute A11 puis A28,**
- **par la route N23 puis D338.**

Comment se déplacer dans un territoire ? (suite)

Pour des trajets plus longs en dehors de la ville, les personnes peuvent utiliser les axes routiers (routes et autoroutes) ou les voies ferrées. Selon les trajets, on peut utiliser différents moyens de transport.