

1. Calcul mental : Nombre avant, après, entre...



2. Connaître la suite des nombres



Complète chaque série de nombres.


7 8 11 15 13 12

13 15 12 19 17


3. Additionner deux nombres à 1 chiffre pour un total supérieur à 10.




Entoure pour obtenir 10 puis additionne.




$7 + 4 = 10 + \underline{\quad} = \underline{\quad}$



$8 + 6 = \underline{\quad} + \underline{\quad} = \underline{\quad}$



$\underline{\quad} + \underline{\quad} = \underline{\quad} + \underline{\quad} = \underline{\quad}$



$\underline{\quad} + \underline{\quad} = \underline{\quad} + \underline{\quad} = \underline{\quad}$



Calcule

$10 + 3 = \underline{\quad}$ $10 + 8 = \underline{\quad}$ $10 + 1 = \underline{\quad}$
 $5 + 10 = \underline{\quad}$ $2 + 10 = \underline{\quad}$ $7 + 10 = \underline{\quad}$