

1

Ecris ce nombre en chiffres.

cent-quatre-vingt-quatre


2

Quel est ce nombre ?

$$400 + 50 + 9$$

3

Quel est ce nombre ?



4

Quel est ce nombre ?

$$70 + 200 + 3$$

5

Ecris ce nombre en chiffres.

deux-cent-trois

6

Quel est ce nombre ?



7

Ecris ce nombre en chiffres.

cent-seize

8

Quel est ce nombre ?



9

Ecris ce nombre en chiffres.

cent-trente-sept

10

Quel est ce nombre ?

$$200 + 9$$

11

Ecris ce nombre en chiffres.

trois-cent-soixante-dix

12

Quel est ce nombre ?

$$100 + 90$$

13

Ecris ce nombre en chiffres.

quatre-cent-douze

14

Quel est ce nombre ?




15

Ecris ce nombre en chiffres.

deux-cent-quatre-vingt-onze

16

Quel est ce nombre ?



17

Ecris ce nombre en chiffres.

trois-cent-sept

18

Quel est ce nombre ?

$$8 + 10 + 100$$


19

Ecris ce nombre en chiffres.

deux-cents

20

Quel est ce nombre ?



21

Ecris ce nombre en chiffres.

cent-vingt-neuf

22

Quel est ce nombre ?

$$8 + 100 + 90$$

23

Ecris ce nombre en chiffres.

trois-cent-trente-trois

24

Quel est ce nombre ?



25

Quel est ce nombre ?



26

Quel est ce nombre ?

$$60 + 300 + 5$$

27

Ecris ce nombre en chiffres.

quatre-cent-soixante-six

SPRINT
DE
NUMERATION

SPRINT
DE
NUMERATION

SPRINT
DE
NUMERATION

SPRINT
DE
NUMERATION

SPRINT
DE
NUMERATION

SPRINT
DE
NUMERATION

SPRINT
DE
NUMERATION

SPRINT
DE
NUMERATION

SPRINT
DE
NUMERATION