

DEFI 1

La basse-cour

Un fermier a des poules et des lapins
En regardant tous les animaux, il voit 5 têtes et 16 pattes.



Combien le fermier a-t-il de lapins et de poules ?

DEFI 2


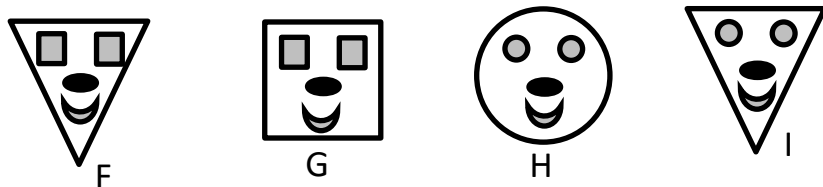
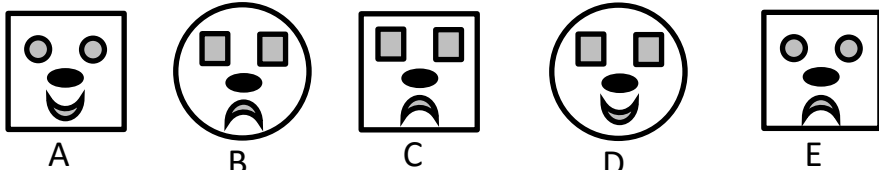
Bas les masques

Paul a perdu son masque. Il demande si Lucie peut l'aider à le retrouver et le lui décrit :

- Mon masque n'est pas carré
- Mon masque n'est pas souriant
- La forme des yeux est identique à la forme du masque




Sais-tu quelle est la lettre du masque de Paul ?



DEFI 3

Bouche trou

Combien de triangles faut-il pour boucher le trou ?



DEFI 4

Les triangles

Combien y a-t-il en tout de triangles dans ce dessin ?

