

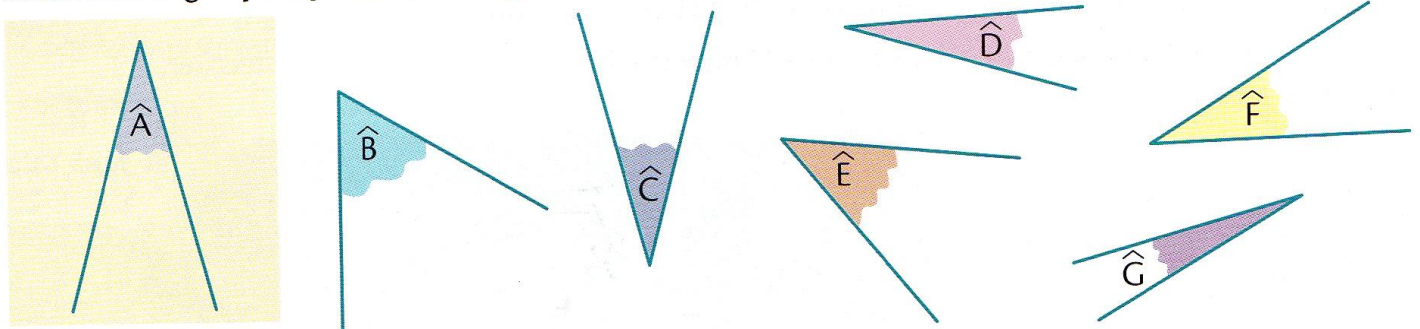


Grandeurs et mesures : Les angles
Comparer des angles

CM2

Fiche d'exercices n°7
Leçon 3

➔ **Exercice 1** : Aide-toi du papier calque pour comparer les angles avec l'angle \hat{A} .
Trouve les angles plus petits que \hat{A} , égaux à \hat{A} et plus grands que \hat{A}

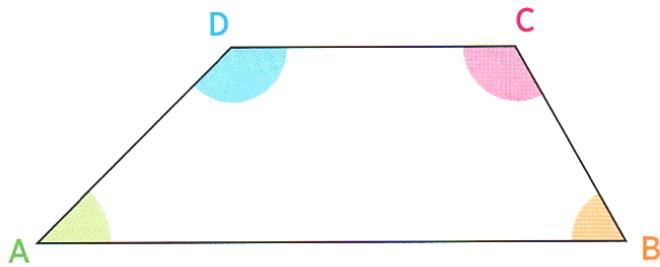


Les angles égaux à \hat{A} : C et F

Les angles plus petits que \hat{A} : D et G

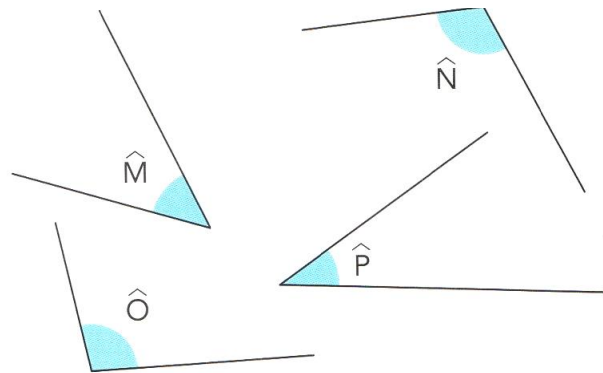
Les angles plus grands que \hat{A} : B et E

➔ **Exercice 2** : Compare et range les angles du polygone du plus petit au plus grand.



$A < B < C < D$

➔ **Exercice 3** : Range ces angles du plus petit au plus grand.



$M < P < O < N$

➔ **Exercice 3** : Découpe le gabarit d'angle, puis retrouve l'angle de la figure qui a la même mesure que le gabarit.

