


1 – Le métier et les outils du géographe



Que fait cette personne?

Qu'utilise un géographe pour effectuer son métier?

Le métier du géographe

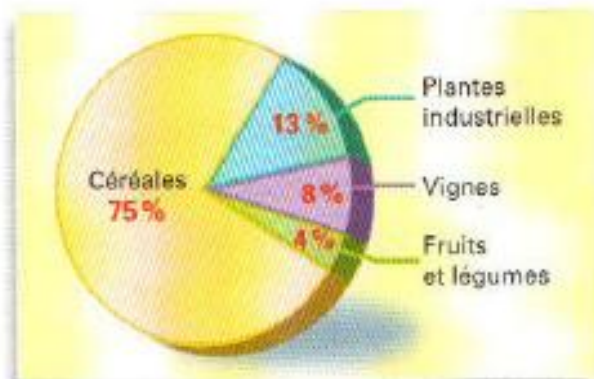
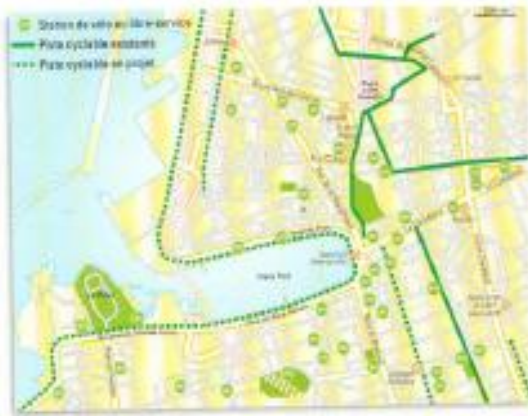
Les outils du géographe

Application

Ecris sous chaque illustration de quel outil il s'agit: une carte, une photographie, un tableau, un graphique, un schéma, un texte, un plan



	Lansac	Rocko	Tockose
Médecin	X	X	X
Collège	X	X	X
Banque	X	X	X
Hôpital		X	X
Lycée		X	X
Hypermarché		X	X
Cinéma		X	X
Bus		X	X
Tribunal		X	X
Aéroport international			X
Métro			X
Université			X



Ce que fait le géographe

Le géographe va sur le terrain, observe et récolte des informations. Il étudie, rassemble et compare des documents. C'est un scientifique qui utilise beaucoup les calculs. Le géographe dispose d'une réalité qu'il peut voir ou mesurer.



La carte

Une carte est une représentation à plat et réduite d'un espace vu du ciel. C'est une vision simplifiée: seules des informations choisies par le géographe sont mentionnées (relief, cours d'eau, lieux habités, voies de communication...). Elle donne généralement le nom des lieux et permet de repérer.



1 Photo satellite de l'ensemble de la France



2 Les dimensions de la France

Quelles sont les différences entre ces deux représentations?

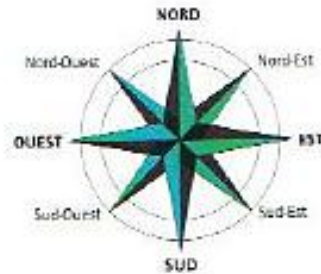


3 Photo satellite et carte routière de l'île d'Ouessant (Finistère)
Extrait de la carte au 1/100 000^e Brest-Quimper © IGN-Paris 2010 autorisation n°80-9001




Et entre ces deux représentations de l'île d'Ouessant?

La carte - Application

Observe ce document et trouve tous les éléments indispensables pour lire une carte.



0 200 km

-  Côtes rocheuses et découpées
-  Côtes où dominent les falaises
-  Côtes basses sablonneuses ou à dunes

4 Carte de France des littoraux

La carte - Leçon

La carte
