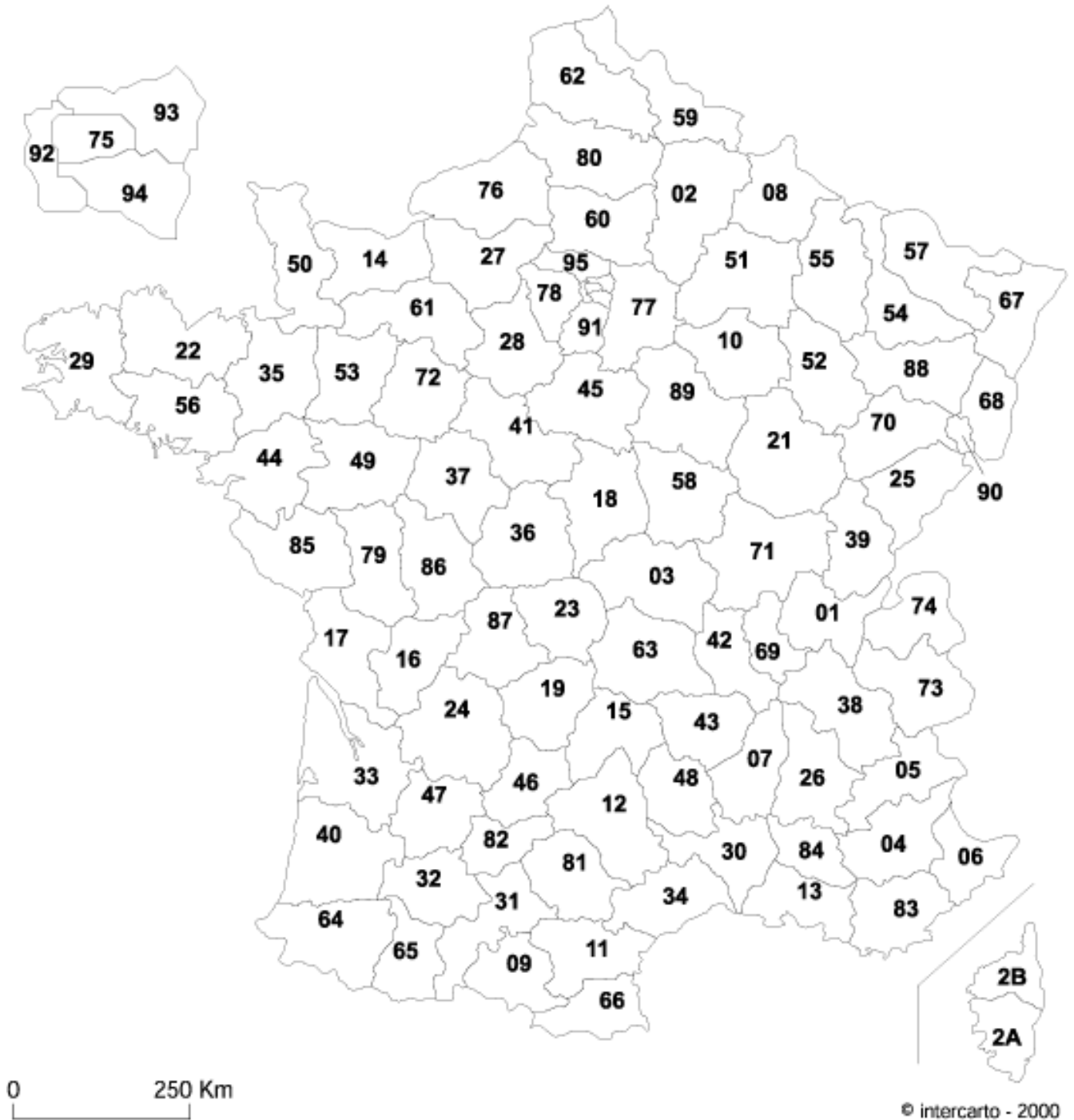


# Géographie : la France des régions

## LA FRANCE PAR DEPARTEMENTS



### Activités :

1. En t'aidant du tableau suivant, trace les limites des régions françaises et colorie-les comme indiquées
2. Dans le dictionnaire, cherche le nom des capitales de régions et complète le tableau.

# Géographie : la France des régions

Régions	couleur	Capitales régionales	Nombre de Départements	N° des départements							
Alsace	Bleu		2	67	68						
Aquitaine	Orange		5	24	33	40	47	64			
Auvergne	Vert		4	03	15	43	63				
Basse-Normandie	Orange		3	14	50	61					
Bourgogne	Orange		4	21	58	71	89				
Bretagne	Vert		4	22	29	35	56				
Centre	Bleu		6	18	28	36	37	41	45		
Champagne-Ardenne	Rouge		4								
Corse	Bleu		2	2A	2B						
Franche-Comté	Violet		4	25	39	70	90				
Haute-Normandie	Violet		2	27	76						
Île-de-France	Jaune		8	75	77	78	91	92	93	94	95
Languedoc-Roussillon	Orange		5	11	30	34	48	66			
Limousin	Violet		3	19	23	87					
Lorraine	Vert		4	54	55	57	88				
Midi-Pyrénées	Bleu		8	09	12	31	32	46	65	81	82
Nord-Pas-de-Calais	Orange		2	59	62						
Pays de la Loire	Violet		5	44	49	53	72	85			
Picardie	Vert		3	02	60	80					
Poitou-Charentes	Vert		4	16	17	79	86				
Provence Alpes Côte d'Azur	Vert		6	04	05	06	13	83	84		
Rhône-Alpes	Bleu		8	01	07	26	38	42	69	73	74
<i>Total :</i>			<b>96</b>								

# Géographie : la France des régions

Régions	superficie en km <sup>2</sup>	population en 1988	population en 2011	densité 2011 hab/km <sup>2</sup>
		En milliers d'habitants		
Alsace	8 280	1 609	1 852	224
Aquitaine	41 308	2 740	3 254	79
Auvergne	26 013	1 332	1 350	52
Basse-Normandie	17 589	1 384	1 475	84
Bourgogne	31 582	1 615	1 642	53
Bretagne	27 208	2 774	3 217	118
Centre	39 151	2 304	2 556	65
Champagne-Ardenne	25 606	1 361	1 336	52
Corse	8 680	242	314	36
Franche-Comté	16 202	1 094	1 173	72
Haute-Normandie	12 317	1 709	1 839	149
Ile-de-France	12 012	10 334	11 852	986
Languedoc-Roussillon	27 376	2 082	2 670	98
Limousin	16 942	733	741	44
Lorraine	23 547	2 323	2 350	100
Midi-Pyrénées	45 348	2 388	2 903	64
Nord-Pas-de-Calais	12 414	3 910	4 042	326
Pays de la Loire	32 082	3 058	3 601	112
Picardie	19 399	1 785	1 918	99
Poitou-Charentes	25 810	1 596	1 777	69
Provence Alpes Côte d'Azur	31 400	4 160	4 916	156
Rhône-Alpes	43 698	5 218	6 283	143
<i>France métropolitaine</i>	543 964	55 750	63 933	117

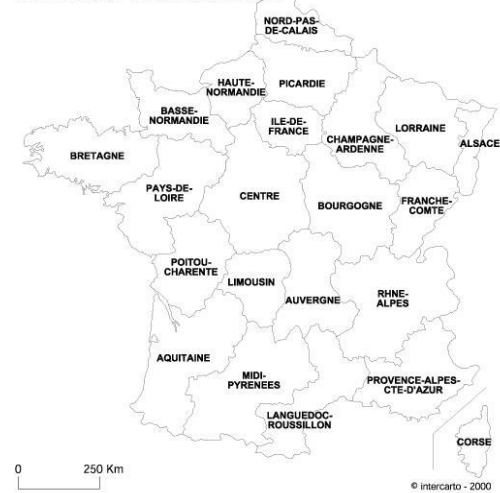
# Géographie : la France des régions

## Activités :

1) Je classe dans le tableau les 5 plus grosses régions selon leur superficie. Puis, je les colorie sur la carte.

N°	Région	superficie
1		
2		
3		
4		
5		

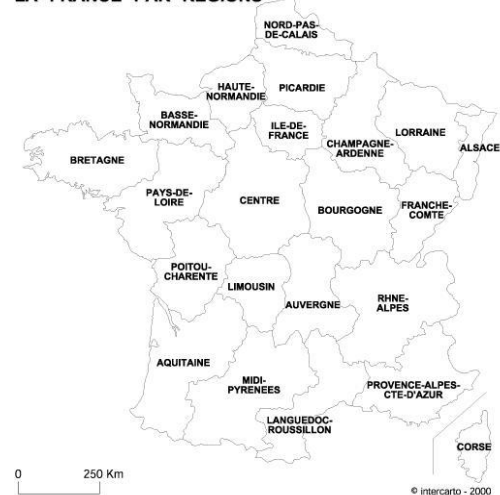
LA FRANCE PAR REGIONS



2) Je classe les 5 régions les plus peuplées en 1997.

N°	Région	population
1		
2		
3		
4		
5		

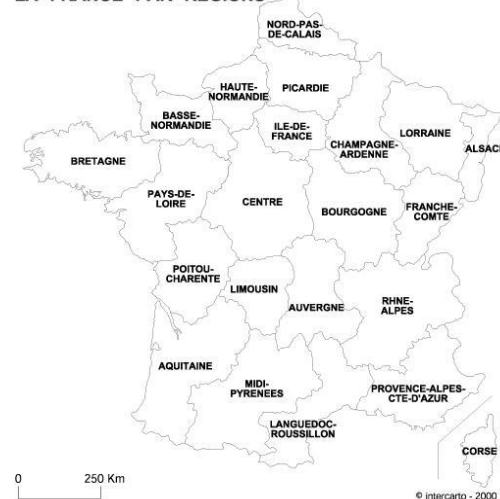
LA FRANCE PAR REGIONS



3) Je classe les régions selon leur densité.

N°	Région	population
1		
2		
3		
4		
5		

LA FRANCE PAR REGIONS



# Géographie : la France des régions

La France métropolitaine est découpée en 96 départements qui forment 22 régions.

Certaines régions, comme l'Île de France ou la Provence-Alpes-Côte d'Azur, sont très attractives ; leur population ne cesse d'augmenter.

D'autres, comme la Champagne-Ardenne ou l'Auvergne, voient leur population stagner ou reculer.

Les régions les moins peuplées s'étendent du Sud-ouest au Nord-est et forme sur la carte la « diagonale du vide ».

La densité de population est le nombre d'habitants par kilomètres carrés (hab/km<sup>2</sup>) sur un territoire. On la calcule en divisant le nombre d'habitants par la superficie.