

59A

Prénom

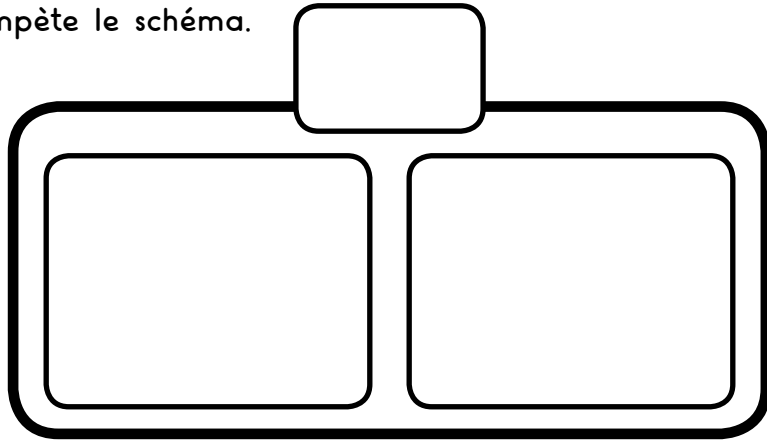
Date

Maths au CP

Nombres
et calculs

6 chevaux sont à l'intérieur de l'écurie. 11 chevaux sont dans le pré. Combien y a-t-il de chevaux en tout?

Je complète le schéma.



Je calcule.

--	--	--	--	--	--	--	--	--	--	--	--	--	--	--	--	--	--	--	--

J'écris la réponse.

59A

Prénom

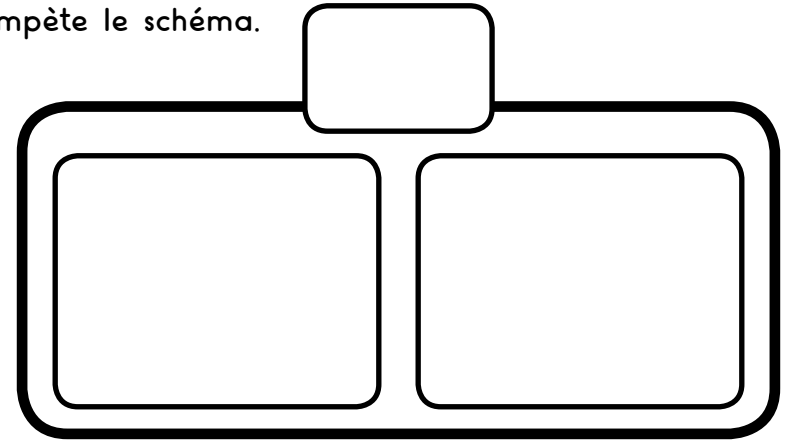
Date

Maths au CP

Nombres
et calculs

6 chevaux sont à l'intérieur de l'écurie. 11 chevaux sont dans le pré. Combien y a-t-il de chevaux en tout?

Je complète le schéma.




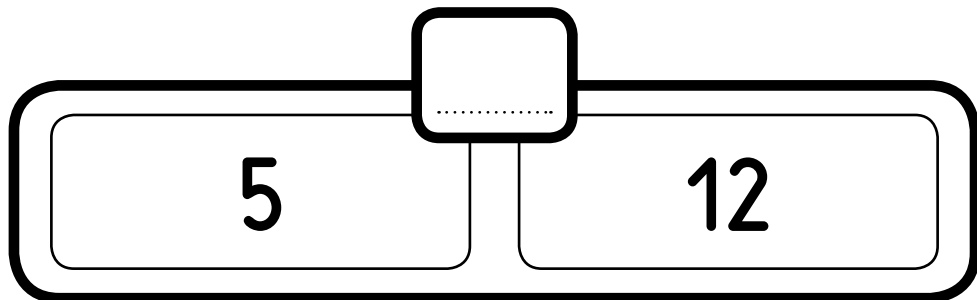

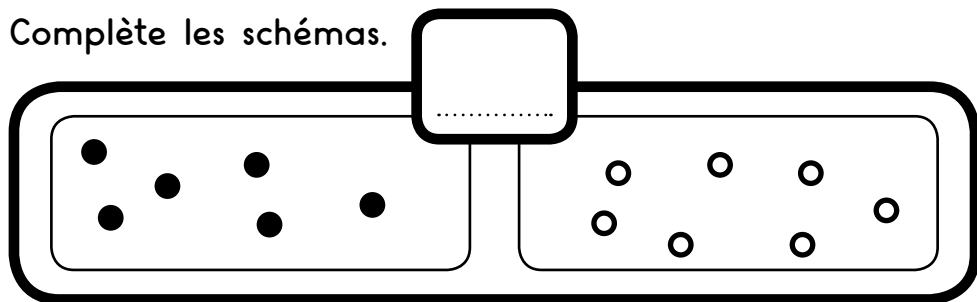
Je calcule.

--	--	--	--	--	--	--	--	--	--	--	--	--	--	--	--	--	--	--	--

J'écris la réponse.



Complète les schémas.



Complète les schémas.

