

Prénom : _____ Date : _____

1. Complète les égalités.

$0+2+2= \dots$

$0+1+0= \dots$

$1+1+0= \dots$

$0+0+0= \dots$

$0+1+2= \dots$

$2+1+0= \dots$

$2+1+2= \dots$

$0+1+1= \dots$

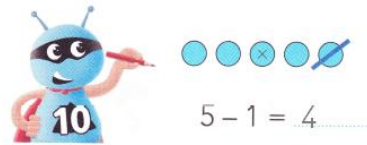
$1+1+1= \dots$

$2+1+1= \dots$

$2+0+0= \dots$

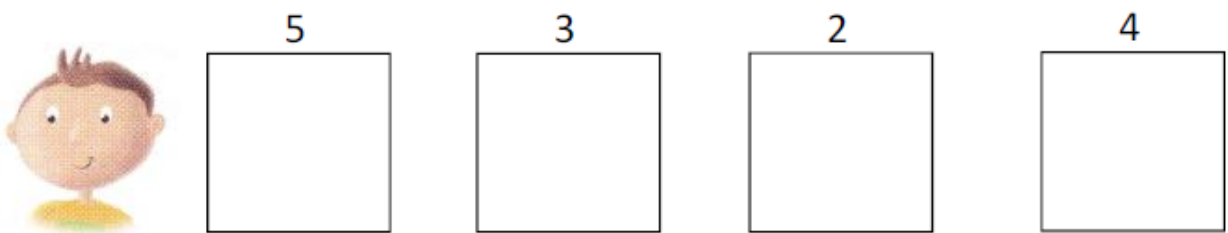
$0+0+1= \dots$

2. Dessine, barre, cache avec ta main et complète comme dans l'exemple.

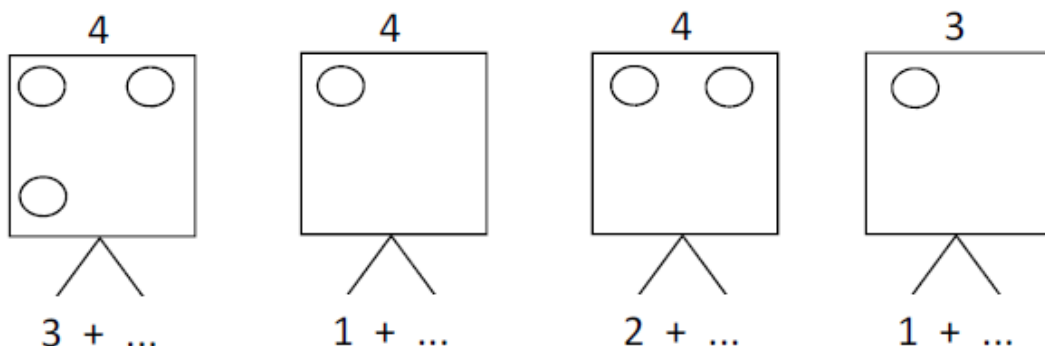


$4 - 3 = \dots$	$5 - 1 = \dots$	$5 - 3 = \dots$
$3 - 3 = \dots$	$2 - 0 = \dots$	$4 - 1 = \dots$




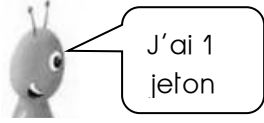
3. Dessine les points comme Dédé.



4. Dessine les points qui manquent et écris combien il en manque.



5. Réponds et dessine pour vérifier.



6. Trace les traits manquants.

