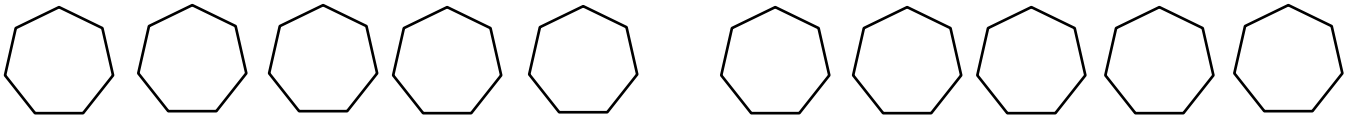




Ton prénom : \_\_\_\_\_

1. Ecris en chiffres les nombres dictés.



2. Décompose les nombres en centaines, dizaines, unités.

5 2 8 = 500 + 20 + 8

4 0 9 = .....

..... = 100 + 20 + 3

3 8 7 = .....

2 9 0 = .....

..... = 300 + 8

3. Ecris ces additions en colonnes puis calcule-les.

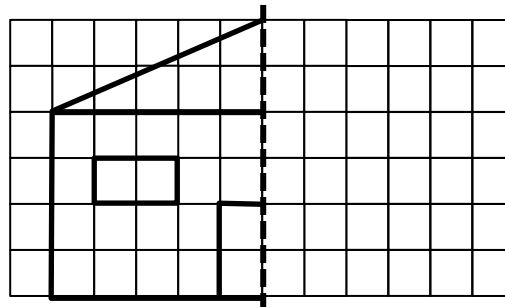
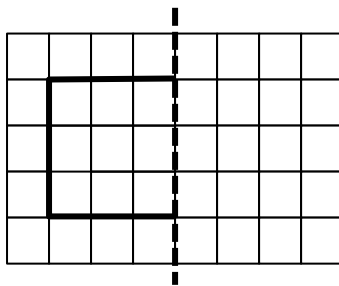
163 + 29 =

328 + 5 + 46 =

19 + 228 + 7 =

Vertical addition grids for the three equations above.

4. Complète chaque figure pour qu'elle soit symétrique par rapport à l'axe :



5. Quelle heure est-il ? :

8 h 00 8 heures			

Je sais écrire les nombres jusqu'à 500 (exercice 1)	
Je sais décomposer un nombre en centaines, dizaines, unités (exercice 2)	
Je sais effectuer des petites additions en colonne (exercice 3)	
Je sais compléter une figure par symétrie (exercice 4)	
Je sais lire des heures entières (exercice 5)	

