
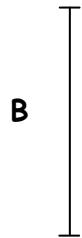


1 Mesure la longueur de chaque segment.



Le segment A mesure ..... cm.




Le segment B mesure ..... cm.

2 Prolonge le segment pour qu'il mesure 8 cm.

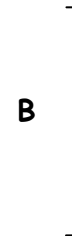


3 Trace un segment de 9 cm.

1 Mesure la longueur de chaque segment.




Le segment A mesure ..... cm.



Le segment B mesure ..... cm.

2 Prolonge le segment pour qu'il mesure 8 cm.



3 Trace un segment de 9 cm.