

Le repérer dans l'année.
Le calendrier 2006-2007

a. Complète le tableau.






1 Janvier	2 _____	3 _____	____ Avril	5 _____	____ Juin
7 _____	8 Août	____ Septembre	____ Octobre	11 _____	____ Décembre

b. Entoure en rouge les mois qui ont 30 jours, en bleu ceux qui en ont 31 et en vert celui qui en a 28.

c. On peut écrire la date de deux manières.

Exemple : 14 octobre 2006 ou 14/10/06

Retrouve les dates de ces événements et écris-les dans le tableau de deux manières.

	la fête nationale	
	Noël	
	le printemps	
	la fête des mères	
	Mardi-Gras	

Arthur est parti en vacances le dimanche 1^{er} juillet. Ses vacances ont duré 5 semaines. Quand sera-t-il de retour ?
