

Prénom : _____

Date : _____

Evaluation CE1 - Calculs

Avril 2013

Je sais compter jusqu'à 999.

Je sais poser et résoudre une addition.

Je sais poser et résoudre une soustraction.

Je sais faire le lien entre écriture additive et écriture multiplicative d'un nombre.

Je sais représenter une collection de $a \times b$ éléments.


Note : /10

Moyenne de la classe : /10

1- Pose ces opérations en colonne et effectue-les :

 $154 - 47 = \dots\dots\dots$	 $668 + 27 = \dots\dots\dots$	 $579 + 13 = \dots\dots\dots$
 $327 + 47 = \dots\dots\dots$	 $324 - 116 = \dots\dots\dots$	 $621 - 249 = \dots\dots\dots$

2- Ecris sous la forme d'une addition et d'une multiplication.




sous la forme d'une addition

sous la forme d'une multiplication

..... =

..... =




sous la forme d'une addition

sous la forme d'une multiplication

..... =

..... =

3- Remplis le quadrillage de façon à avoir l'opération indiquée.




sous la forme d'une addition

sous la forme d'une multiplication

$$4 + 4 + 4 = 12$$

$$4 \times 3 = 12$$



sous la forme d'une addition

sous la forme d'une multiplication

$$7 + 7 + 7 + 7 + 7 = 35$$

$$7 \times 5 = 35$$

4- Colorie d'une même couleur les écritures d'un même nombre.

$$5 + 5 + 5 + 5 + 5$$

$$3 + 3 + 3 + 3 + 3$$

$$1 + 1 + 1 + 1 + 1 + 1 + 1$$

$$2 \times 8$$

$$5 \times 5$$

$$8 + 8$$

$$7 \times 1$$

$$5 \times 3$$

	1	2	3	4	5	6
J'écris les unités sous les unités : 0,25						
J'écris les dizaines sous les dizaines : 0,25						
J'écris les centaines sous les centaines : 0,25						
Je trace le trait à la règle : 0,25						
J'écris les retenues, s'il y en a : 0,5						
Je ne fais pas d'erreurs de calcul : 0,25						