




# Entrainement 1

**1**  
 Dans son verger, monsieur Dupond a ramassé 214 pommes et 165 poires.


**Combien de fruits a-t-il au total ?**

**2**  
 La maîtresse a compté 63 crayons gris et 49 crayons de couleur dans la classe.


**Combien de crayons compte-t-elle au total ?**

**3**  
 Mamie a planté 48 fleurs dans son jardin. Il y a des tulipes ou des roses. Elle se souvient qu'il y avait 24 tulipes.


**Combien y avait-il de roses ?**

**4**  
 Dans un stade de football, on compte 3 742 spectateurs. 2 110 sont venus encourager l'équipe des bleus.


**Combien encouragent l'équipe des rouges ?**

**5**  
 La maman de Clara achète un cartable à 33 euros, un livre à 12 euros et un classeur à 5 euros.

**Combien coûtent ces achats ?**

**6**  
 Le jardinier sait qu'il y a 162 arbres dans le parc de la ville. Ces arbres sont soit des chênes, soit des hêtres. Il a compté 26 hêtres.

**Combien de chênes y a-t-il dans le parc ?**

**7**  
 Le wagon des éléphants du cirque pèse 25 T quand il est plein et 14 T quand il est vide.

**Combien pèsent les éléphants ?**

8



Pour préparer la fête d'anniversaire, maman a ramené 18 parts de cake, 6 parts de tarte au citron et 9 parts de tarte au chocolat.

**Combien de parts de gâteau y a-t-il au total ?**

## Entrainement 2

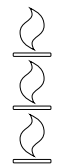
9



Papa possède 5 vestes de costume et 4 pantalons différents.

**Combien peut-il former de tenues différentes ?**

10



**Combien de menus peut-on composer** avec, au choix, quatre plats et cinq desserts différents ?

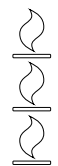
11



Pour réaliser des bateaux miniatures, on a le choix entre 8 formes de coque et 12 formes de voiles.

**Combien de bateaux différents peut-on construire ?**

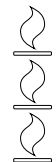
12



J'envoie une carte postale à 6 personnes qui en envoient chacune une à 5 autres personnes.

**Après le deuxième envoi, combien de personnes auront reçu une carte postale ?**

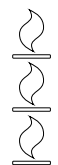
13






Je possède 3 vestes et 4 pantalons.

**Combien puis-je former de tenues différentes ?**

14



Je dessine 3 figures géométriques :    J'ai 3 couleurs pour les colorier. **Combien aurai-je de figures différentes à la fin de mon coloriage ?**

15



Mon frère a 5 casquettes et 8 paires de baskets.

**Combien peut-il faire de combinaisons (casquette/baskets) différentes ?**

16



Pour mon personnage du jeu Warrior, je peux choisir entre 3 tenues, 2 coupes de cheveux et 4 armes.

**Combien de personnages différents puis-je former ?**

### Entraînement 3

17



La grand-mère de Manon lui donne 40 euros. Maintenant, Manon a 120 euros. **Combien Manon avait-elle d'argent avant le cadeau de sa grand-mère ?**

18



Dans sa tirelire, Manon a déjà 60 euros. Sa grand-mère lui donne de l'argent. Maintenant, elle a 90 euros.

**Combien d'argent sa grand-mère lui a-t-elle donné ?**

19



Nathan a 100 images. Il donne 3 images à son copain Thomas. **Combien Nathan d'images a-t-il maintenant ?**

20



La maman de Manon est partie faire les courses avec un billet de 80 euros. Elle revient avec 20 euros dans son porte-monnaie. **Combien a-t-elle dépensé ?**

21



Il y avait 77 kg de feuilles d'arbres entassées dans la cour. Le vent en éparpille 15 kg.

**Quelle est la masse du nouveau tas ?**

22



Dans le champ, l'agriculteur a ramené 16 nouveaux moutons. Maintenant, son troupeau compte 125 moutons au total. **Combien de moutons avait-il au départ ?**

23



Maman a acheté 108 bonbons d'Halloween. Après le passage des enfants le soir d'Halloween, elle n'a plus que 15 bonbons. **Combien de bonbons a-t-elle distribués ?**

24



A la fin de l'année, la maîtresse n'a plus que 29 cahiers dans son placard. Tout au long de l'année, elle en a distribué 118 à ses élèves.

**Combien avait-elle de cahiers au début de l'année ?**

#### Entrainement 4

25



Monsieur Dupont gagne 1 740 € par mois. Il gagne 200 € de plus que Monsieur Martin.

**Combien Monsieur Martin gagne-t-il par mois ?**

26



Mamie a gagné 320 euros au casino tandis que Papy a gagné 155 euros.

**Combien Mamie a-t-elle gagné de plus que Papy ?**

27



Un VTT coûte 189 € à Carrefour et 25 € de plus à Décathlon.

**Quel est le prix du VTT à Décathlon ?**

28



Mon école compte 98 élèves tandis que celle de mon cousin a 131 élèves.

**Combien d'élèves notre école a-t-elle de moins ?**

29



Un avion vole à 9 500m d'altitude puis passe à 7 800m.  
**De combien de mètres est-il descendu ?**

30



Théo a 60 euros dans sa tirelire. Il a 40 euros de moins que son frère Mathis.  
**Combien d'argent Mathis a-t-il dans sa tirelire ?**

31



Un récipient « A » contient 3 l 25 cl. Il contient 75 cl de moins qu'un récipient « B ». **Combien contient le récipient « B » ?**

32



La planète Mars est à 228 000 000 km du Soleil. La planète à 149 600 000 km du Soleil. **De combien de km la Terre est-elle plus proche du Soleil que la planète ?**

## Entrainement 5

33



Théo pèse 24 kg. Son grand frère Enzo pèse 2 fois plus que lui. **Combien de kg Enzo pèse-t-il ?**

34



Dans ma classe, il y a 25 chaises. Il y en a 5 fois plus à la cantine. **Combien y a-t-il de chaises à la cantine ?**

35



Un objet mesure 14 mm et si je le regarde avec une loupe, il mesure 42 mm. **Quel est le grossissement de la loupe ?**

36



L'école a commandé 1 908 stylos. L'école maternelle n'en a commandé que 318. **Combien de fois moins de stylos l'école maternelle va-t-elle recevoir ?**

37



Le grand car peut emmener 78 personnes, alors que le mini car ne peut en prendre que 13. **Combien de fois plus de personnes le grand car peut-il prendre ?**

38



Lucie a 13 images dans sa collection d'animaux. Antoine en a trois fois plus. **Combien d'images possède Antoine ?**

39



Les voisins ont planté 124 tulipes. Après une terrible tempête, ils annoncent qu'ils ont quatre fois moins de tulipes. **Combien de fleurs reste-t-il ?**

40



Anita veut s'acheter 2 bagues. L'une vaut 6€. L'autre vaut 18€. **Combien de fois plus coûte la deuxième bague ?**