












Prénom :

Date :











	<h1 style="margin: 0;">REPÉRAGE - Quadrillage</h1> (03)
---	--

1./ Indique les coordonnées des différents symboles :


	1	2	3	4	5	6	7	8	9
A									
B									
C									
D									
E									
F									
G									
H									
I									

Exemple :


 : B 5









- | | |
|--|---|
|  : |  : |
|  : |  : |
|  : |  : |
|  : |  : |
|  : |  : |

2./ Dessine les symboles au bon endroit :

	1	2	3	4	5	6	7	8	9
A									
B									
C									
D									
E									
F									
G									
H									
I									

Exemple :

 : B 8

- | | |
|--|---|
|  : G 3 |  : H 7 |
|  : D 1 |  : E 2 |
|  : A 7 |  : F 5 |
|  : I 9 |  : A 2 |
|  : C 4 |  : E 6 |

2./ Combien y a-t-il de cases sur chacun de ces quadrillages ?

.....

.....