

Prénom: _____

Signature des parents

Mon programme: 

Bilan du plan de travail:

- Programme tenu
- Programme non tenu
- Programme dépassé

Commentaire: _____

GRAMMAIRE



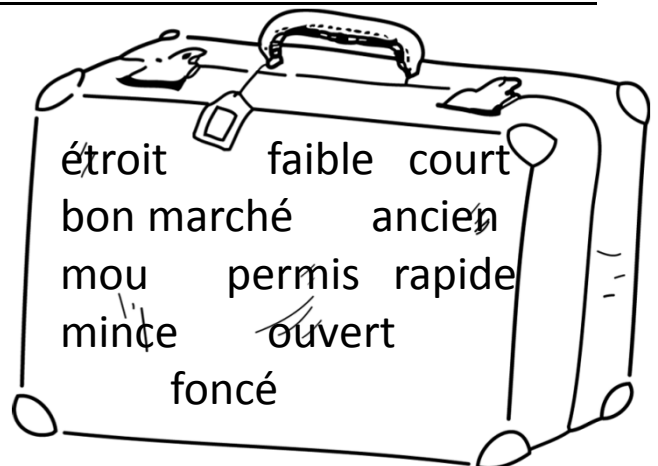
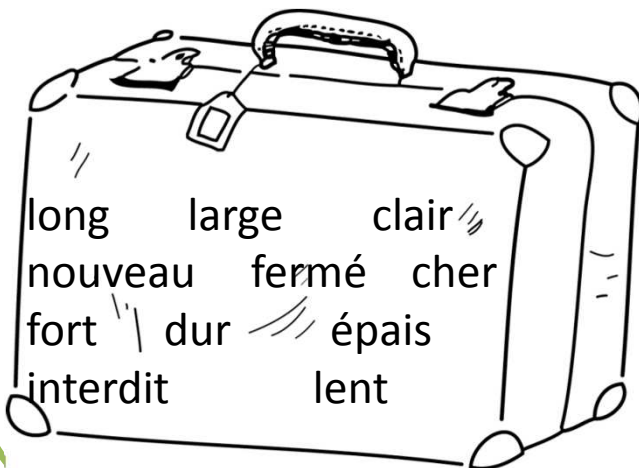
Dans chaque liste, un groupe n'est pas un groupe nominal. Barre l'intrus.

- mon animal favori – une petite tortue – plus grand – un jeune loup
- bien écrit – un livre de contes – une page blanche – un cahier d'écriture
- la semaine prochaine – aujourd'hui – la veille – l'année prochaine – une heure plus tard

LECTURE



Chaque mot de la première valise a son contraire dans la deuxième valise. Entoure les de la même couleur.



VOCABULAIRE



Dans les phrases, remplace le verbe dire par un synonyme de la liste.

répéter – répondre – raconter – expliquer

Leur père aime leur dire une histoire tous les soirs.

Tu n'arrêtes pas de dire la même chose: c'est lassant!

GRAMMAIRE



Pour chaque phrase, indique si le verbe conjugué est le verbe être ou avoir.

Tu es en pleine forme. A-t-il froid?

Tu as de la chance. Vous êtes fatigués.

Avez-vous faim?

GRAMMAIRE



Complète les phrases avec le verbe aller ou partir au présent.

Nous à la bibliothèque chaque mercredi.

Le train à 7 heures précises.


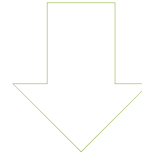

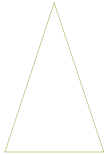
Les nouveaux locataires et viennent sans arrêt.

À quelle heure-tu à l'école?

GEOMETRIE



Repasse sur les côtés des polygones avec ta règle.



LOGIQUE



À toi de relier les musiciens et leurs instruments.

C'est une fille qui joue de la flûte.

La guitare du cousin de Marion a une corde cassée.

Sylvain doit souffler dans son instrument pour obtenir un son.

Myriam a besoin de baguettes pour jouer de son instrument.

	trompette	guitare	batterie	flûte
Adrien				
Myriam				
Sylvain				
Marion				

Adrien joue de la _____, Myriam de la _____,

Sylvain de la _____ et Marion de la _____.

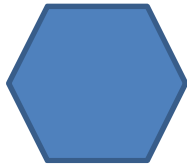
NUMERATION



Observe les polygones et remplis le tableau.



A



B



C

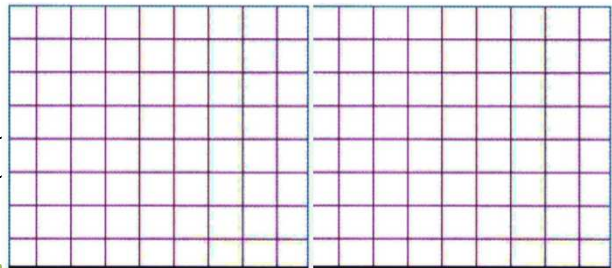
	A	B	C
Nb de côtés			
Nb de sommets			

CALCUL



Paulva au magasin de sport. Il a dans son porte-monnaie un billet de 100€. Il achète une paire de rollers à 73 euros.

Combien le marchand rend-t-il à Paul?



FRANCAIS



Fais la fiche de Topscore ... de VOCABULAIRE et inscris ton score sur ta fiche de suivi..

MATHEMATIQUES



Fais la fiche de Topscore GEOMETRIE et inscris ton score sur ta fiche de suivi..

CALCUL



Tu peux aller sur l'ordinateur faire un exercice de Abacalc

LECTURE



Tu peux prendre un livre dans le carton.