


Plan de travail MATHÉMATIQUES N 8

DU 27 FÉVRIER AU 16 MARS 2012

I. Numération :

Num 1  :

fiche N16 17 A

Num 2   :

fiche N16 17 B

Num 3    :

fiche N16 17 C

II. Calcul

Calc 1  :


fiche CA8 9 A

Calc 2   :

fiche CA8 9 B

Calc 3    :

fiche CA 8 9 C

Calc 4  :

fiche CA 13

Calc 5   :

**Pose et effectue les divisions
suivantes sur ton cahier.**


102 divisé par 50 315 divisé par 25

215 divisé par 10 505 divisé par 11

786 divisé par 50 346 divisé par 21

821 divisé par 40 451 divisé par 34


III. Grandeurs et mesures :

Mes 1  :

fiche M8 A

Mes 2   :

fiche M8 B

Mes 3  :

fiche M7 A


Mes 4   :

fiche M7 B

Mes 5    :

fiche M7 C

IV. Problèmes:

Prob 1  :

Annexe 1


Prob 2   :

Annexe 2

Prob 3    :

Annexe 3

V. Géométrie :

Geom 1  :

Cap Maths ex 3 p. 127

Geom 2   :

fiche GO 23

N'oublie pas :

Tous les exercices se font sur ton **cahier du jour**, d'abord au crayon de papier.

Note bien le nom de l'exercice (ex : Gramm1). Dès que ton cahier a été corrigé une première fois, **gomme** tout ce qui est barré au crayon de papier puis recopie au stylo bille bleu.

Soigne bien **la présentation** de ton travail et ton **écriture**.

Pense également à **compléter ton tableau** en coloriant les cases et à colorier **le tableau de la classe**.

Annexe 1 :

Mme Létoile doit ranger 845 verres dans des boîtes. Chaque boîte contient 6 verres. De combien de boîtes Mme Létoile a-t-elle besoin ?

Annexe 2 :

Maryline a une boîte de 720 vignettes. Elle les range par paquets de 25. Combien de paquets fera-t-elle ?

- a. Trouve la division à poser.
- b. Pose et effectue le calcul puis écris une phrase de réponse.

Annexe 3 :

A l'école des sorciers, il y a 348 élèves. Ils partent en voyage en bus. Chaque bus contient 26 places. Combien de bus faudra-t-il ?