

DEVINETTE (C1)

J'ai 10 bon-points dans ma trousse,
Léo a 14 bon-points.

Combien de bon-points a-t-il en plus ?



Il a ___ bon-points en plus.



$$10 + 4 = 14$$

Il a **4** bon-points en plus


DEVINETTE (C2)

J'ai 9 billes, Noé a 12 billes.

Combien de billes a-t-il en plus ?



Il a ___ billes en plus.



$$9 + 3 = 12$$

Il a **3** billes en plus.

DEVINETTE (C3)

J'ai 12 ans,
J'ai 2 ans de plus que ma sœur.

Quel âge a ma sœur ?



Ma sœur a ___ ans.



$$12 - 2 = 10$$

Ma sœur **10** ans.


DEVINETTE (C4)

J'ai ramassé 7 pommes.
Maman a ramassé 17 pommes.



Combien de pommes a-t-elle ramassé en plus ?

Maman a ramassé ___ pommes
de plus que moi.



$$7 + 10 = 17$$

Maman a ramassé **10** pommes
de plus que moi.


DEVINETTE (S1)

J'ai 9 crayons dans ma trousse, 4 crayons cassés partent à la poubelle.

Combien me reste-t-il de crayons ?



Il me reste ___ crayons.



$$9 - 4 = 5$$

Il me reste 5 crayons.

DEVINETTE (S2)

J'ai 10 billes, à la récréation je perds 6 billes.

Combien me reste-t-il de billes ?



Il me reste ___ billes.



$$10 - 6 = 4$$

Il me reste 4 billes.

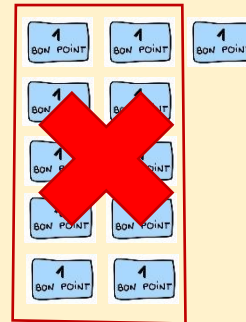
DEVINETTE (S3)

J'ai 11 bon-points, j'échange 10 bon-points contre une image.

Combien me reste-t-il de bon-points ?



Il me reste ___ bon-points.



$$11 - 10 = 1$$

Il me reste 1 bon-points.

DEVINETTE (S4)


Depuis le début de l'année, j'ai reçu 6 images.

Mon copain en a deux de moins.

Combien mon copain a-t-il d'images ?



Mon copain a ___ images.



$$6 - 2 = 4$$

Mon copain a 4 images.


DEVINETTE (A1)

J'ai 5 crayons dans ma trousse et 3 crayons sur ma table.

Combien ai-je de crayons en tout ?



J'ai ___ crayons en tout.



$$5 + 3 = 8$$

J'ai 8 crayons en tout.

DEVINETTE (A2)

J'ai 10 billes dans ma poche et 6 billes dans mon cartable.

Combien ai-je de billes en tout ?



J'ai ___ billes en tout.



$$10 + 6 = 16$$

J'ai 16 billes en tout.

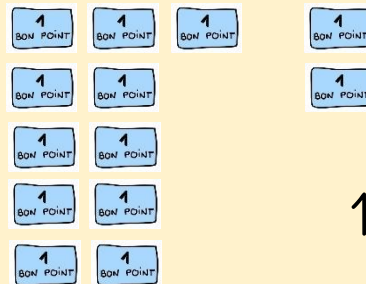
DEVINETTE (A3)

J'ai 11 bon-points et aujourd'hui j'ai encore gagné 2 bon-points.

Combien ai-je de bon-points en tout ?



J'ai ___ bon-points en tout.



$$11 + 2 = 13$$

J'ai 13 bon-points en tout.

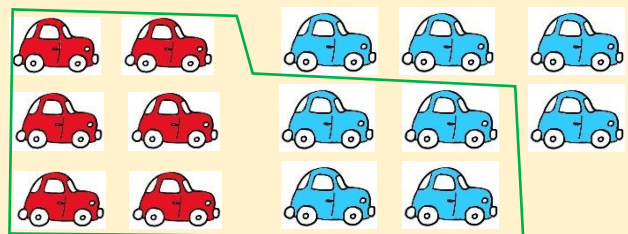
DEVINETTE (A4)

J'ai 6 voitures rouges et 8 voitures bleues.

Combien ai-je de voitures en tout ?



J'ai ___ voitures en tout.



$$6 + 8 = 10 + 4 = 14$$

J'ai 14 voitures en tout.