



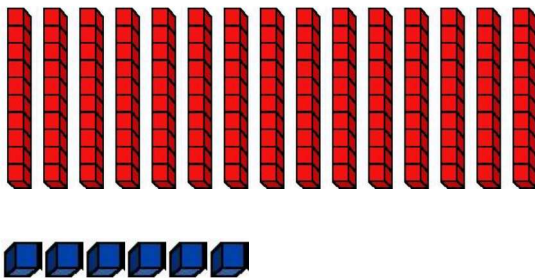
Trouve le nombre 17 avec : 5 - 6 - 7 - 1

$$17 = \text{-----}$$

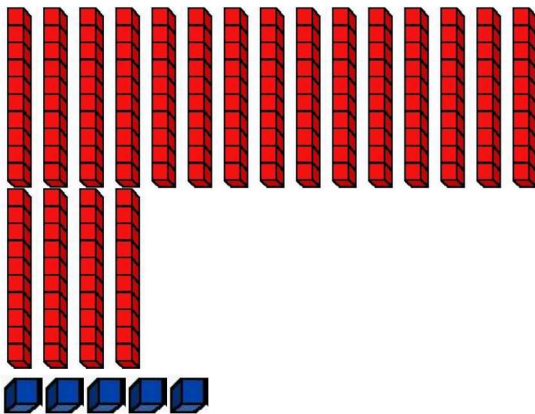
Trouve le nombre 23 avec : 9 - 12 - 5 - 3

$$23 = \text{-----}$$

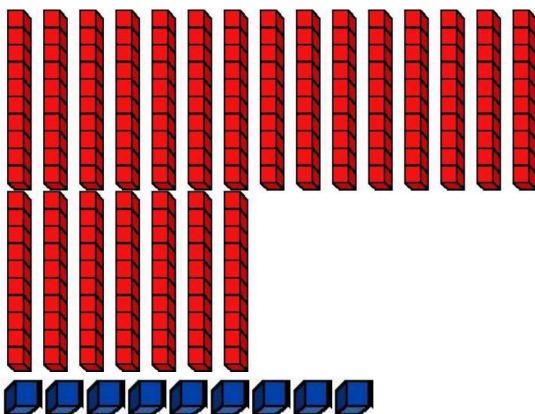
Entoure 10 paquets de 10 pour faire une centaine puis écris le nombre représenté dans le tableau :



C	D	U
<input type="text"/>	<input type="text"/>	<input type="text"/>



C	D	U
<input type="text"/>	<input type="text"/>	<input type="text"/>



C	D	U
<input type="text"/>	<input type="text"/>	<input type="text"/>



SUPERMARCHÉ

Qté	Désignation	Total
1	JEU VIDEO	55 €
1	MANETTE DE JEU	17 €

TOTAL ...

MERCI DE VOTRE VISITE ET A BIENTOT

SUPERMARCHÉ

Qté	Désignation	Total
1	JEU VIDEO	58 €
1	FIGURINE	23 €

TOTAL ...

MERCI DE VOTRE VISITE ET A BIENTOT

SUPERMARCHÉ

Qté	Désignation	Total
1	COFFRET DVD	45 €
1	JEU SOCIETE	27 €

TOTAL ...

MERCI DE VOTRE VISITE ET A BIENTOT

SUPERMARCHÉ

Qté	Désignation	Total
1	ASPIRATEUR	85 €
1	LOT DE SACS	19 €

TOTAL ...

MERCI DE VOTRE VISITE ET A BIENTOT

SUPERMARCHÉ

Qté	Désignation	Total
1	JEU VIDEO	54 €
1	MANETTE DE JEU	17 €
1	LIVRE	19 €

TOTAL ...

MERCI DE VOTRE VISITE ET A BIENTOT

SUPERMARCHÉ

Qté	Désignation	Total
1	CAFETIERE	59 €
1	LOT DE CAFE	9 €
1	PAQUET DE FILTRES	7 €

TOTAL ...

MERCI DE VOTRE VISITE ET A BIENTOT