

Prénom : _____

classe : CM1

Cahier d'activité en autonomie

n° 2

Lorsque j'ai terminé le travail de classe, je prends mon cahier d'activité en autonomie pour ne pas déranger mes camarades.

Ce travail doit être fait :

- dans l'ordre chronologique,
- seul et sans bavarder avec mes voisins,
- en indiquant la date dans le tableau récapitulatif.

Tableau récapitulatif

FICHES	DATE
Mots mêlés ; les transports	
Énigme : l'âge du maire	
Géométrie : Pavages	
Art : La liberté guidant le peuple	
Géométrie : Symétrie	
Coloriage magique : Le multiplicateur manquant	

1. MOYENS DE TRANSPORT

1. Surligne ou entoure, dans la grille, les noms proposés en dessous.

P	B	R	O	U	E	T	T	E	N	R	K	N	E	Q	C
C	L	I	T	I	E	R	E	N	E	L	O	T	R	E	A
P	A	Q	R	J	O	N	Q	I	E	I	T	U	O	L	R
A	U	T	A	R	F	V	D	C	V	E	E	N	N	O	R
Q	T	F	I	A	C	R	E	A	L	T	A	T	O	R	O
O	O	T	N	H	A	L	R	C	R	G	N	O	T	D	S
E	M	R	E	F	G	O	Y	O	M	V	T	E	I	U	S
B	O	R	A	I	G	C	P	A	V	I	R	L	I	E	E
O	B	L	U	D	I	A	B	L	E	U	I	D	T	U	L
T	I	R	A	B	E	R	T	S	E	G	P	T	A	R	L
E	L	C	L	S	M	O	T	O	E	O	O	R	N	T	E
E	E	E	I	R	C	O	M	N	R	L	R	A	R	R	U
H	O	A	A	R	O	I	C	T	U	R	T	M	I	A	R
G	H	C	O	U	S	E	E	O	I	N	E	W	L	I	G
C	A	M	I	O	N	M	R	A	U	M	U	A	Y	N	H
P	T	O	M	B	E	R	E	A	U	S	R	Y	H	R	O


Une **litière** Le **carrosse** La **bicyclette** Un **fiacre** La **brouette** Un **tripporteur**
 Le **fardier** Le **camion** Un **tramway** Un **avion** Le **car** Le **méto**
 La **chaise à porteur** Le **traîneau** La **diligence** La **roulotte** Un **tombereau**
 Un **diable** Une **moto** Une **automobile** Le **paquebot** Le **TGV** Le **train**

2. Classe les noms :

Véhicules à moteur

Véhicules sans moteur

2. L'âge du Maire




Peux-tu découvrir l'âge du Maire sachant que:


1. Son fils Arthur a 10 ans.
2. Son cousin Emile a 15 ans de plus que Laurent.
3. Son adjoint Alain a 6 ans de plus qu'Émile et 6 ans de moins que le Maire.
4. A la naissance de Bernard, Laurent avait l'âge qu'a Arthur aujourd'hui.

Rédige ta réponse

3. Pavages

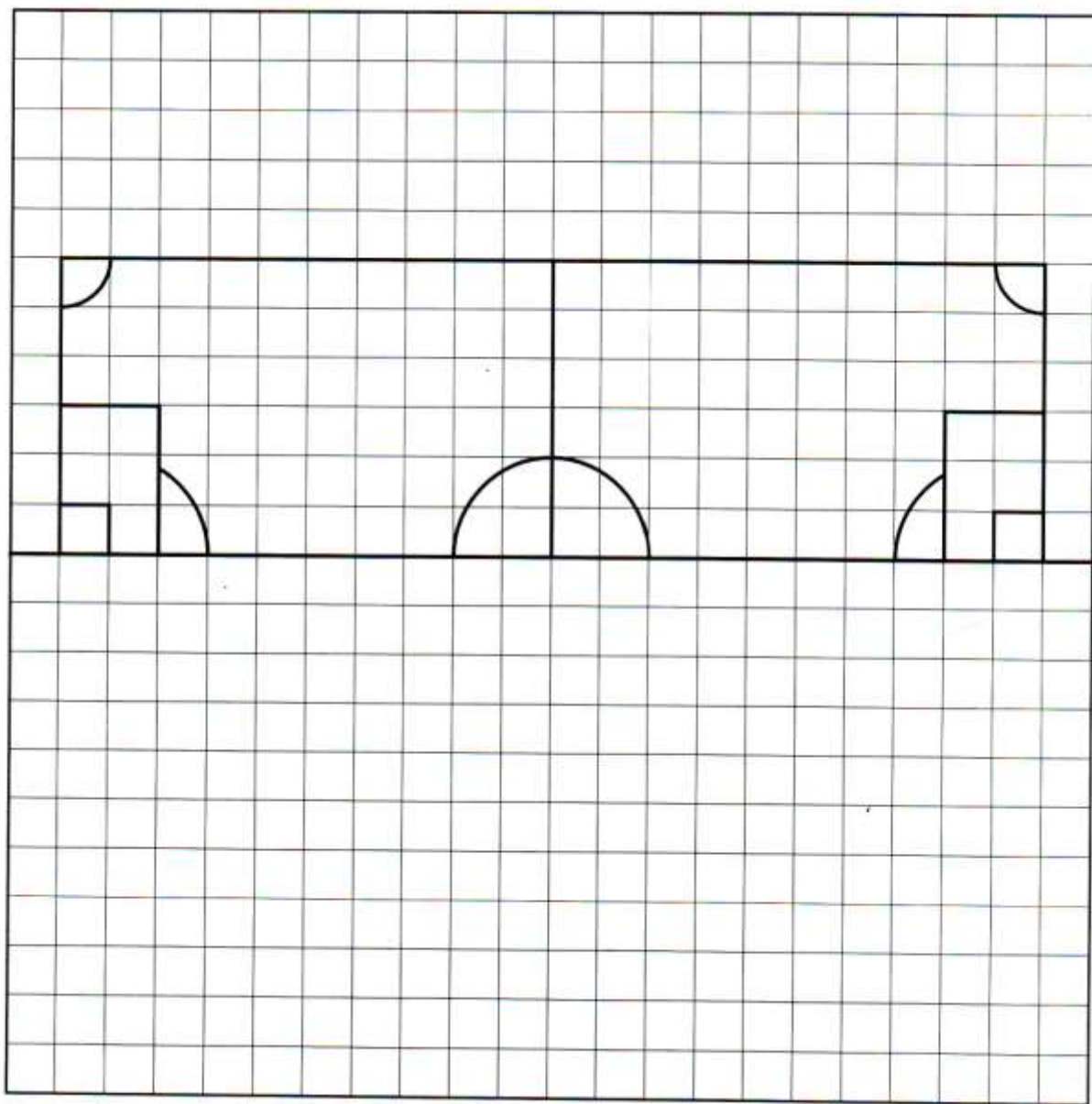


4. Coloriage d'oeuvre d'art : La liberté guidant le peuple de DELACROIX



5. Symétrie

Complète le terrain de football



6. Coloriage magique

Le multiplicateur manquant

Consigne : Remplace \square par :

4 : BLEU	5 : MARRON	6 : VIOLET	7 : ROUGE	8 : ORANGE	9 : JAUNE
----------	------------	------------	-----------	------------	-----------

Quel est cet animal ?

.....

NOMBRE D'ERREURS

ÉVALUATION

Aide

Travaille par tâtonnements, en approchant le résultat si tu n'es pas sûr(e) de connaître les tables de multiplication. *Exemple :* pour trouver $8 \times \square = 56$, on essaie :

- ① $8 \times 10 = 80$ (trop grand) ;
- ② $8 \times 5 = 40$ (trop petit) ;
- ③ $8 \times 6 = 40 + 8 = 48$ (trop petit) ; $8 \times 7 = 48 + 8 = 56$, donc $\square = 7$.