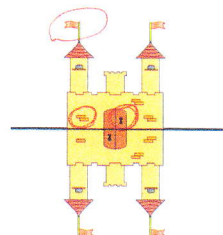


Je m'entraîne

15 min

2 Dans cet exercice les élèves doivent trouver les trois erreurs qui font que le dessin du château et son reflet ne sont pas des figures symétriques : les erreurs seront entourées sur le reflet (le drapeau de droite de la tour-relle, le dessin de la brique sous cette même tourlle et le dessin du trou de la serrure).



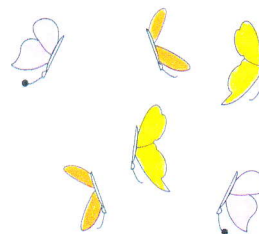
Erreur possible

Difficulté à trouver les erreurs.

Remédiation

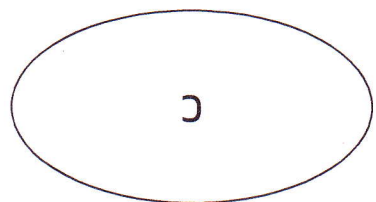

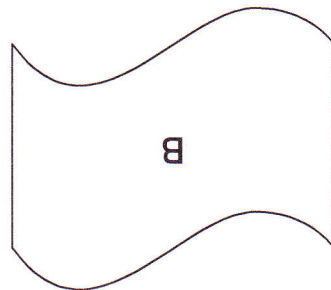
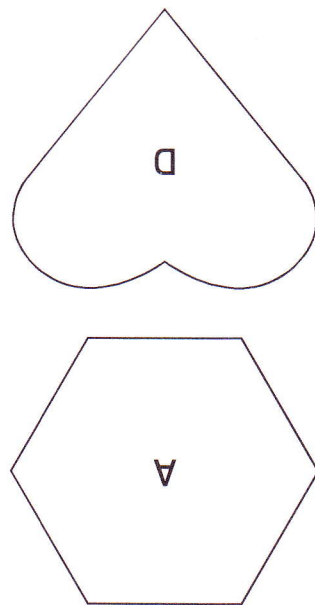
Par le débat.

3 Les élèves doivent trouver les deux parties symétriques d'une figure.



118 Reconnaître une figure symétrique

Matériel photocopiable



287



Réinvestissement

4 Il s'agit de compléter un arbre à calcul illustrant la technique étudiée en leçon 116.

$$45 + 23 = 40 + 5 + 20 + 3$$

$$60 + 8$$

$$90 + 7$$

$$32 + 65 = 30 + 2 + 60 + 5$$

Différenciation

Consolidation Photofiche 105c
Cette fiche comporte deux exercices dans lesquels il faut retrouver les figures symétriques en les entourant ou en les coloriant.

Erreur possible
Difficulté à trouver les parties symétriques.

Remédiation

Par le débat. Demander aux élèves de comparer les divers éléments qui se ressemblent et qui permettent de recomposer une figure symétrique.