

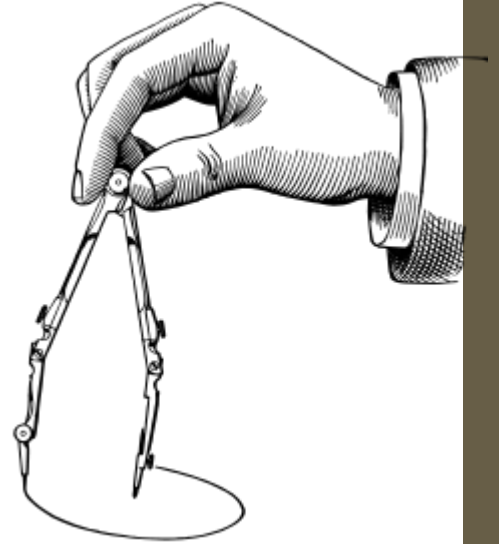
CE 2

Le cercle

Géométrie

Trace un cercle en posant la pointe de ton compas sur le point O.

O
x

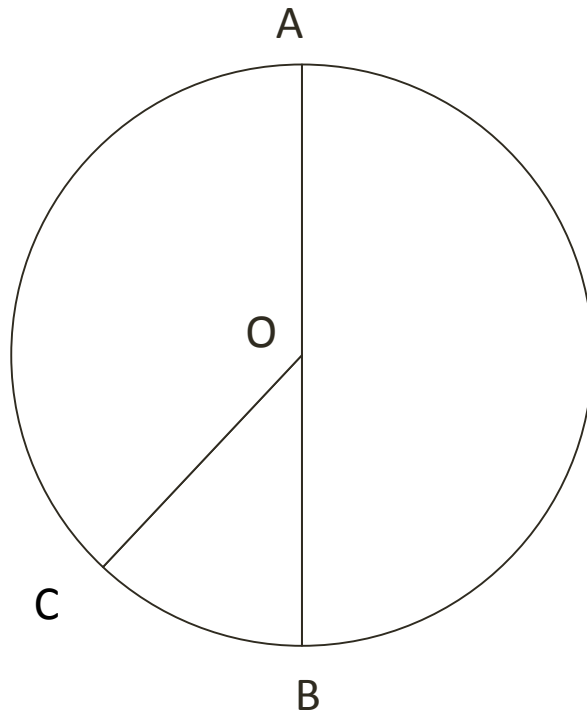
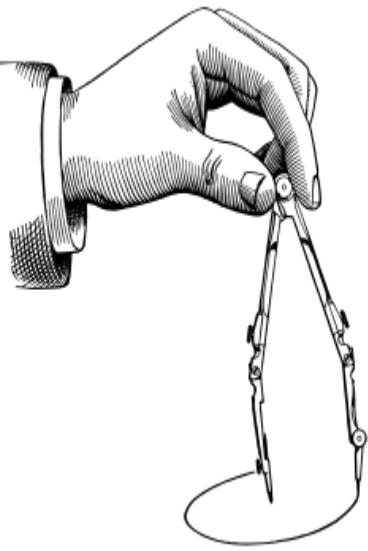


Place un point B sur le cercle.
[OB] est le _____

Trace maintenant un cercle de centre O et de 4 cm de rayon.

O
x

Complète :



O est le _____ du cercle.

[OC] est le _____ du cercle.

[AB] est le _____ du cercle.

Le disque est une surface plane limitée par un cercle.
Colorie ce disque en jaune.

