



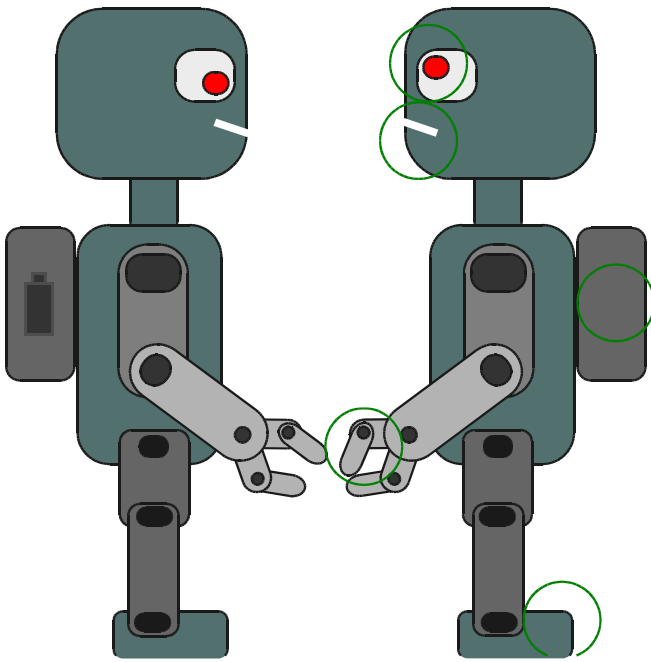


FICHE 2 : SYMÉTRIE AXIALE



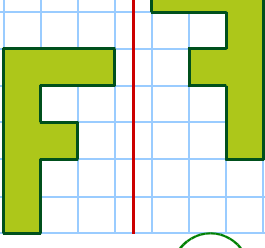
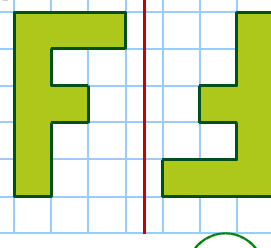
1 Indique si les deux figures sont symétriques.

<p>a.</p> 	<p>b.</p> 	<p>c.</p> 	<p>d.</p> 				
<p>Oui</p>	<p>Non</p>	<p>Oui</p>	<p>Non</p>	<p>Oui</p>	<p>Non</p>	<p>Oui</p>	<p>Non</p>

2 Entoure les erreurs entre le robot de gauche et l'image qu'il renvoie dans le miroir.



3 Les figures ci-dessous sont-elles symétriques par rapport à la droite rouge ?

<p>a.</p> 	<p>b.</p> 		
<p>Oui</p>	<p>Non</p>	<p>Oui</p>	<p>Non</p>
<p>c.</p> 	<p>d.</p> 		
<p>Oui</p>	<p>Non</p>	<p>Oui</p>	<p>Non</p>

4 Trace le symétrique de cet extra-terrestre par rapport à l'axe rouge en utilisant un calque.

