








Ton prénom : \_\_\_\_\_


1 Utilise l'unité donnée par la maîtresse. (**bande-unité de 3 cm**) 

 2 **Ecris** la longueur des bandes.



  
**A**



  
**B**


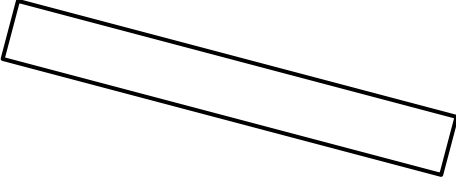
  
**C**






La bande **a** mesure : \_\_\_\_ unités.  
 La bande **b** mesure : \_\_\_\_ unités.  
 La bande **c** mesure : \_\_\_\_ unités.

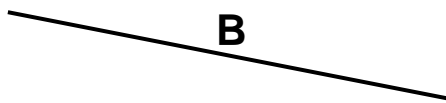
2  Une bande a la même longueur que la bande grise.  
**Colorie-la en bleu.** 


  



  



3  **Entoure** le trait qui est le plus long. 



  
**A**


  
**B**

  
**C**

  
**D**

  
**E**


4  **Coche** la bonne réponse. 



Une agrafeuse mesure {

10 cm

50 cm



Une ardoise mesure {

2 cm

20 cm

<i>Je sais mesurer des longueurs par report d'une unité</i>	1	
<i>Je sais utiliser un objet intermédiaire pour comparer des longueurs</i>	2,3	
<i>Je sais estimer une mesure en centimètres</i>	4	