

Mathématiques CP - Année 2016/2017 - Bilan 6

Date : _____

Ton prénom : _____

1 Ecris les réponses.

● ■ ★ ☾ ♥ ▲


2 Ecris les réponses.

● ■ ★ ☾ ♥ ▲

3 Complète. Tu peux t'aider des résultats écrits sur l'ardoise.

$7 + 6 = \dots\dots$	$8 + 7 = \dots\dots$	$6 + 5 = \dots\dots$
$9 + 7 = \dots\dots$	$6 + 8 = \dots\dots$	$8 + 9 = \dots\dots$
$5 + 7 = \dots\dots$	$8 + 5 = \dots\dots$	$8 + 6 = \dots\dots$

$6 + 6 = 12$
 $7 + 7 = 14$
 $8 + 8 = 16$



4 Ecris le nombre de points dessinés par Arthur

Arthur a dessiné points.


5 Entoure le bon nombre de points sur chaque carte.

●●●●	●●●●
●●●●	●●●●
●●●●	●●●●
●●●●	●●●●
●●●●●●●●	

22

●●●●	●●●●
●●●●	●●●●
●●●●	●●●●
●●●●	●●●●
●●●●●●●●	

35

6  Ecris ces nombres dans les cases vides, ils doivent être rangés du plus petit au plus grand.

18	54	33	
40		21	98

.....

.....

.....


38


.....

.....

69

.....



7  Barre les étiquettes qui sont fausses.

48 < 59


64 > 25


44 > 51

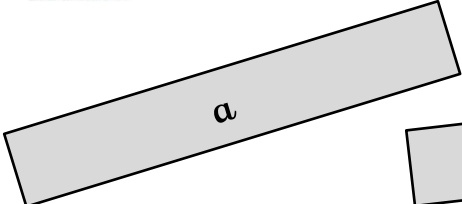
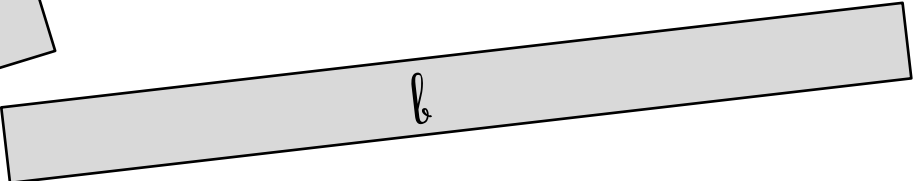

39 < 56

89 < 80

18 < 21




8  Utilise l'unité orange de ton cahier et mesure les bandes.

La bande **a** mesure unités. La bande **b** mesure unités.

La bande **c** mesure unités.

9  Trace avec ta règle les traits qui manquent pour obtenir le même dessin que sur le modèle.