

Prénom : \_\_\_\_\_

Date : \_\_\_\_\_

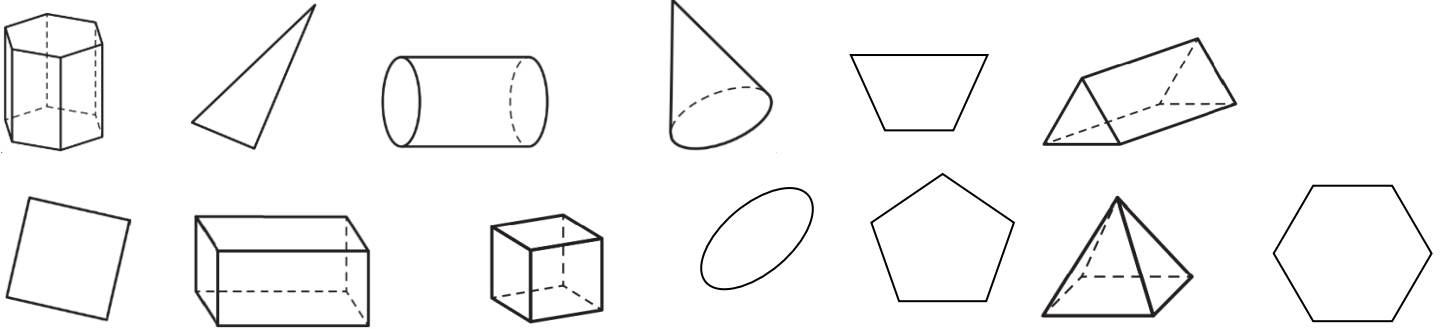
CM2



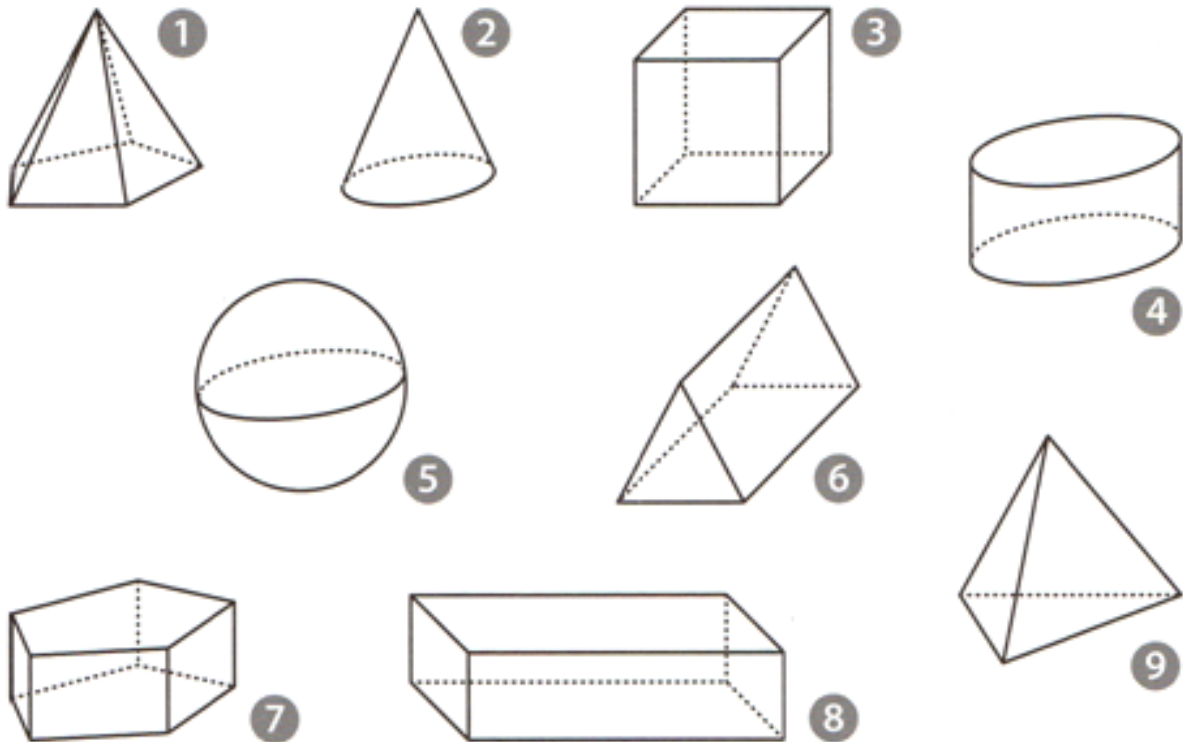
**Espace et géométrie : Les solides**  
Reconnaître, décrire et nommer les solides.

Fiche d'exercices n° 14  
Leçon 7

➔ **Exercice 1** : Entoure seulement les solides.

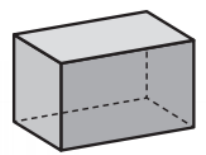
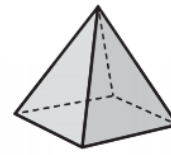
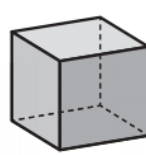
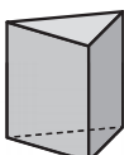


➔ **Exercice 2** : Colorie les polyèdres en bleu et les non polyèdres en rouge. Puis, complète le tableau.

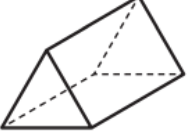


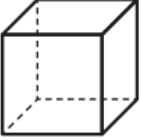
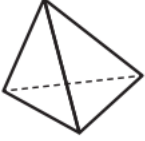


	1	2	3	4	5	6	7	8	9
Nombre de faces									
Nombre d'arêtes									
Nombre de sommets									

➔ **Exercice 3** : Écris le nom de chaque solide.



→ **Exercice 4** : Complète la description des solides.

	Je possède _____ faces, _____ arêtes et _____ sommets. Mes faces sont _____ et _____.
	Je possède _____ faces, _____ arêtes et _____ sommets. Mes faces sont _____ et _____.
	Je possède _____ faces, _____ arêtes et _____ sommets. Mes faces sont _____ et _____.
	Je possède _____ faces, _____ arêtes et _____ sommets. Mes faces sont _____.
	Je possède _____ faces, _____ arêtes et _____ sommets. Mes faces sont _____.