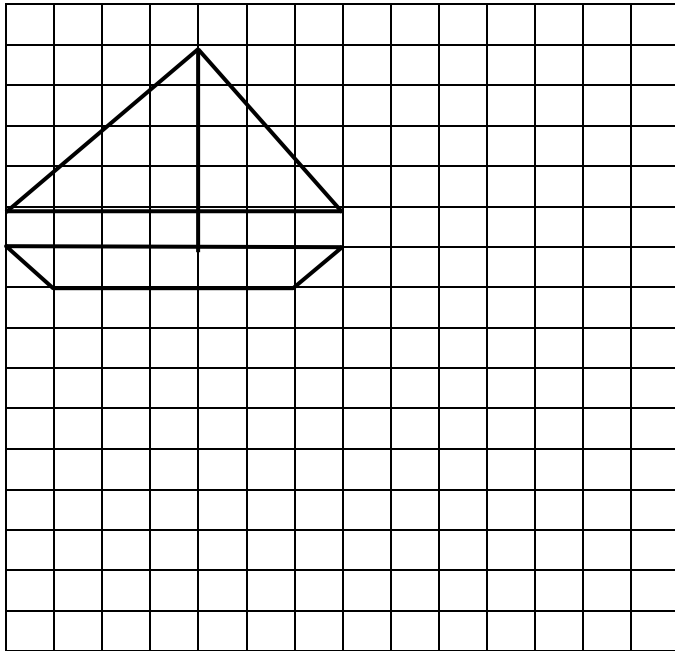


1. CALCUL MENTAL – Dictée de nombre jusqu'à 200

2. Reproduis la figure



3. Ecris le nombre qui correspond

4 centaines, 3 dizaines et 1 unité :

9 dizaines, 1 centaine et 8 unités :

6 unités, 3 dizaines et 2 centaines :

3 centaines et 9 unités :

5 dizaines et 6 centaines :

Nombre de réponses justes

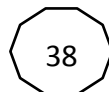


Je sais reproduire une figure.

OUI
MOYEN
NON

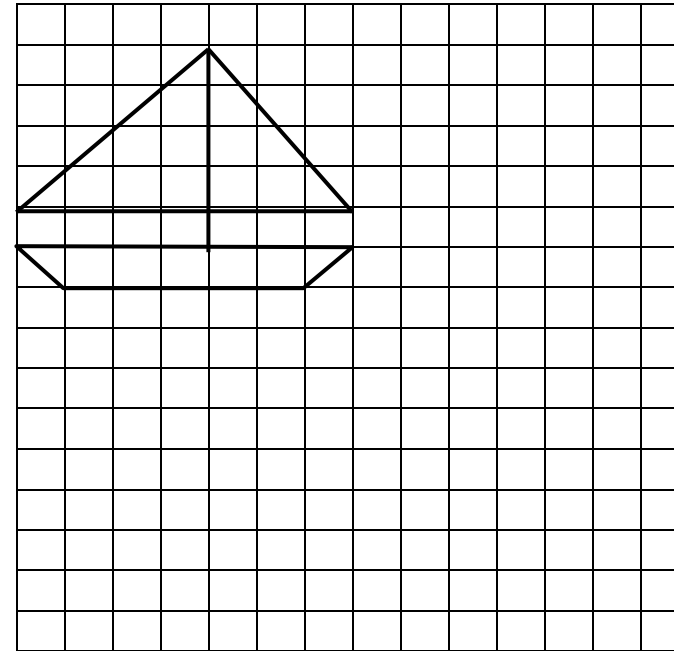
Je sais écrire un nombre présenté sous forme de centaines, dizaines, unités

OUI
MOYEN
NON



1. CALCUL MENTAL – Dictée de nombre jusqu'à 200

2. Reproduis la figure



3. Ecris le nombre qui correspond

4 centaines, 3 dizaines et 1 unité :

9 dizaines, 1 centaine et 8 unités :

6 unités, 3 dizaines et 2 centaines :

3 centaines et 9 unités :

5 dizaines et 6 centaines :

Nombre de réponses justes



Je sais reproduire une figure.

OUI
MOYEN
NON

Je sais écrire un nombre présenté sous forme de centaines, dizaines, unités

OUI
MOYEN
NON

