







Prénom: _____



Date: _____



Ecris le nombre de syllabes qu'il y a dans ces mots.

Ecris le nombre de lettres qu'il y a dans ces mots.

 voiture	
 escargot	

 cheval	
 rat	

J'entoure les lettres que je connais.

CHAT (violet)

table (jaune)

vendredi (rose)

a	b	c	d	e	f	g	h	i	j	k	l	m	n	o	p	q	r	s	t	u	v	w	x	y	z
---	---	---	---	---	---	---	---	---	---	---	---	---	---	---	---	---	---	---	---	---	---	---	---	---	---

a	b	c	d	e	f	g	h	i	j	k	l	m	n	o	p	q	r	s	t	u	v	w	x	y	z
---	---	---	---	---	---	---	---	---	---	---	---	---	---	---	---	---	---	---	---	---	---	---	---	---	---

A	B	C	D	E	F	G	H	I	J	K	L	M	N	O	P	Q	R	S	T	U	V	W	X	Y	Z
---	---	---	---	---	---	---	---	---	---	---	---	---	---	---	---	---	---	---	---	---	---	---	---	---	---













Prénom: _____

Date: _____

Lis ces mots.

tomate ami parle chat joue vélo mamie moto
papa fée maman rue

Ecris le bon mot sous le dessin.

Lis ces mots outils.

avec le et une dans la de un est

Prénom: _____

Date: _____

Ecoute ces problèmes et réponds aux questions.

1- Arthur a un garage pour ses petites voitures. Il a déjà **trois** voitures dedans. Il met **deux** autres voitures dans le garage. **Dis-moi combien il y a maintenant de petites voitures dans le garage d'Arthur.** _____

2- Zoé a **quatre** photos de son chien. Elle en donne **une** à Arthur. **Dis-moi combien Zoé a maintenant de photos de Gribouille.** _____

3- Montrer une constellation de 3 points pendant 3 secondes. **Combien y a-t-il de points sur ce carton?** _____

4- Montrer une constellation de 5 points pendant 3 secondes. **Combien y a-t-il de points sur ce carton?** _____

5- Compte à partir de un le plus loin possible. _____




6- Compte à partir de cinq jusqu'à 12. _____

7- L'élève a sept cubes face à lui. **Combien y a-t-il de cubes?** _____


Prénom: _____

Date: _____



Entoure l'enfant qui a le plus de fleurs dans son bac:



Dessine autant de fleurs dans le bac que la petite fille:



Combien y a-t-il de fleurs dans ce bac?



Prénom: _____

Date: _____

Colorie en respectant le code couleur.

1 en jaune

4 en noir

2 en vert foncé

5 en marron

3 en vert clair

6 en rouge

