




Fiche d'exercices 1

<i>Nombre</i> et opérations	
<p><u>Exercice n°1</u> : Lis le nombre puis écris-le en chiffres.</p> <p>a. Trois-cent-dix-neuf-mille-trois-cents :</p> <p>b. Cent-vingt-deux-mille-cinq-cent-dix :</p> <p>c. Huit-cent-trente-mille-deux-cent-six :</p>	N O M B R E S
<p><u>Exercice n°2</u> : Ecris la fraction correspondante.</p> <p>a) </p> <p>b) </p> <p>c) </p>	F R A C T I O N S
<p><u>Exercice n°3</u> : Résous.</p> <p>a) $1\ 852 + 3\ 045 = \dots\dots\dots$</p> <p>b) $4\ 200 + 5\ 182 = \dots\dots\dots$</p> <p>c) $4\ 500 + \dots\dots\dots = 7\ 000$</p> <p>d) $3\ 825 + \dots\dots\dots = 8\ 000$</p> <p>e) $2\ 400 + 3\ 700 = \dots\dots\dots$</p> <p>f) $8\ 900 + 3\ 500 = \dots\dots\dots$</p>	C A L C U L M E N T A L
<p><u>Exercice n°4</u> : Pose en calcul écrit.</p> <p>a) $14\ 725 + 28\ 639 =$</p> <p>b) $36\ 785 - 17\ 258 =$</p> <p>c) $452 \times 5 =$</p> <p>d) $38 \times 23 =$</p> <p>e) $4\ 758 : 2 =$</p>	C A L C U L E C R I T