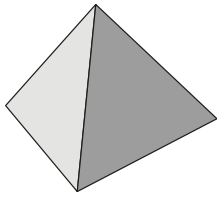



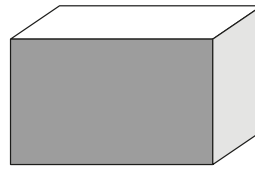
1 Nomme chaque solide.



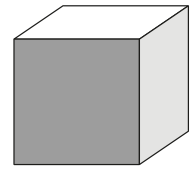
une pyramide



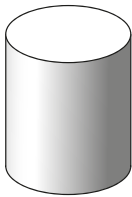
une boule




un pavé droit



un cube



un cylindre



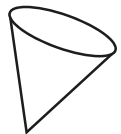

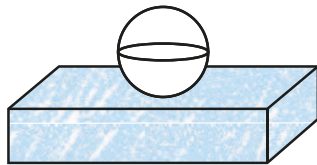
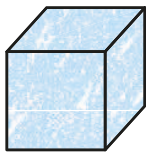
un cône



un prisme droit



2 Colorie les polyèdres.



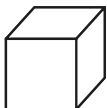
3 Relie chaque solide à son étiquette.



J'ai 2 faces rondes et je ne suis pas un polyèdre.



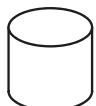
Je suis un polyèdre. Toutes mes faces sont des carrés.



Je suis un polyèdre. 4 de mes faces sont des triangles.



Je ne suis pas un polyèdre et j'ai une face ronde.



Je n'ai pas de surface plane. Je ne suis pas un polyèdre.

