

Prénom : _____ Date : _____

1. Calcule et écris le résultat en lettres.

treize + deux =

vingt + cinq =

six + quatre =

deux + seize =

huit + douze =

cinq + dix =

sept + dix =

huit + huit =

2. Dessine avec le moins de pièces et de billets possible.



24€



41€

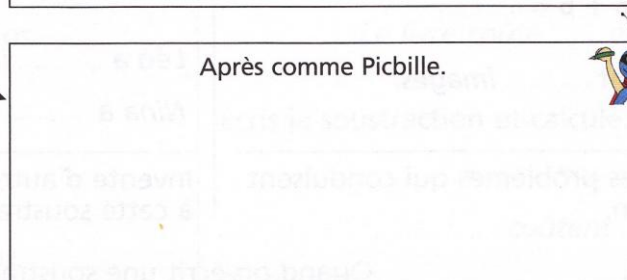
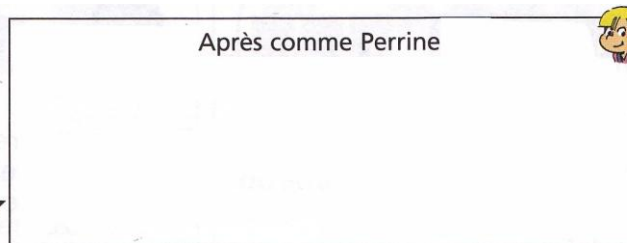



67€



33€

3. Groupes les points par 10, dessine les groupes de dix et les points isolés.



4. Écris en lettres.

31 =	27 =
45 =	60 =
15 =	39 =

5. Lis et complète (tu peux prendre ton tableau des groupes de 2,3,5 et 10)

- 3 paquets de 5 gâteaux, c'esten tout.
- 5 carnets de 10 timbres c'esten tout.
- 4 boîtes de 4 bonbons c'esten tout.
- 2 équipes de 4 enfants c'esten tout.
- 3 bouquets de 4 fleurs c'esten tout.

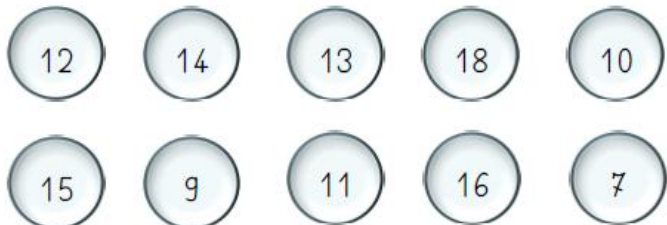
6. Continue les frises.



7. Le nombre mystérieux.

- $3 + 6 = \underline{\quad}$ $7 + 5 = \underline{\quad}$
- $8 + 3 = \underline{\quad}$ $2 + 5 = \underline{\quad}$
- $9 + 4 = \underline{\quad}$ $7 + 3 = \underline{\quad}$
- $6 + 8 = \underline{\quad}$ $8 + 7 = \underline{\quad}$
- $7 + 9 = \underline{\quad}$

Règle du jeu :
Si tu calcules bien ces opérations, tu retrouveras tous les nombres inscrits dans les bulles, sauf un. C'est le **nombre mystérieux**.



Le nombre mystérieux :