


Défi

1

Reproduisez la même chose :



Défi

4

Malia est entre Toma et Tibo.
Jade est à côté de Tibo.
Toma n'a pas de lunettes.

QUI EST QUI ?



1

2

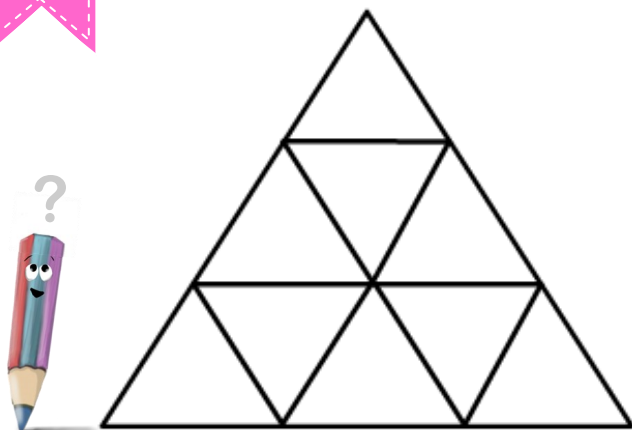
3

4

Défi

2

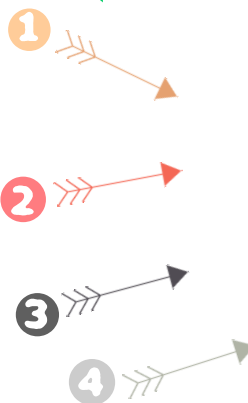
Combien y a-t-il de triangles ?



Défi

5

Quelle flèche touchera la balle ?



Défi

3

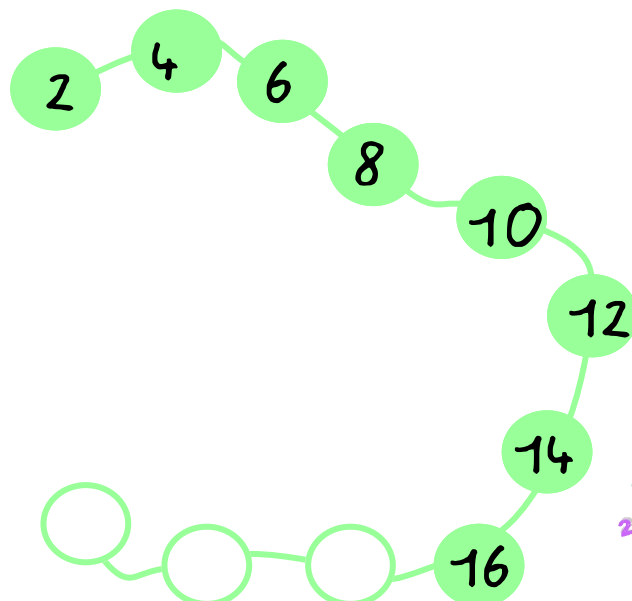
La maîtresse veut donner autant de fichiers que de gommes...
Quel est son problème ?



Défi

7

Continuez la suite...

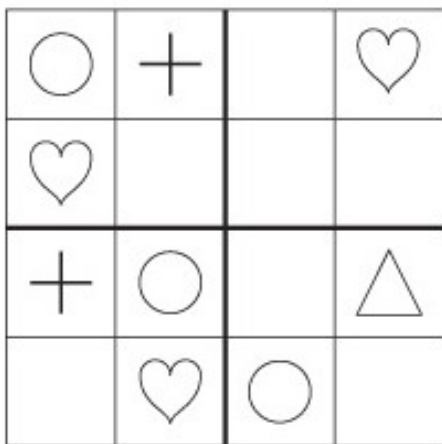


Défi

7

Les 4 éléments doivent se trouver sur chaque ligne, dans chaque colonne et dans chaque carré.


Dessinez-les à la bonne place.



Défi

10


Chaque chat attrape 2 souris.
Combien de souris sont attrapées ?



Défi

8

Coloriez selon les indications.

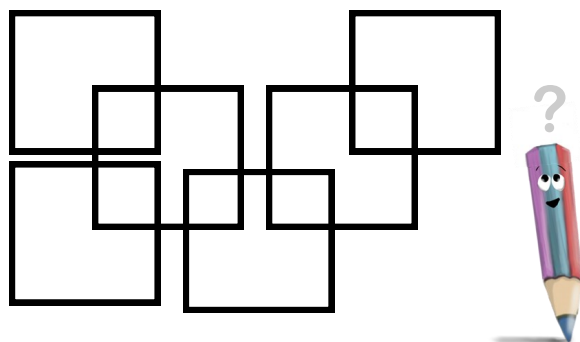


- Je suis rouge.
- Je suis à droite du rouge et je suis jaune.
- Je suis le premier et je suis vert.

Défi

11

Combien y a-t-il de carrés ?



Défi

9

Un peu de calcul...

Coloriez de la même couleur les calculs qui ont le même résultat.

$2 + 5$	$3 + 3$
$1 + 4$	$6 + 0$
$7 + 0$	$3 + 2 + 2$
$3 + 2$	$3 + 4$
$6 + 1$	$2 + 4$
$2 + 1 + 2$	$2 + 4 + 1$

Défi

12

La maison de la maitresse.

Sa maison a 5 fenêtres.

Il n'y a pas de petits carreaux.

La porte est à gauche.

La cheminée est à droite.

Quelle est la maison de la maitresse ?



EQUIPE

Rallye Maths

CP CE1



Feuille réponses

<p>Défi 1</p>	<table border="1"><tr><td></td><td></td><td></td><td></td><td></td><td></td></tr><tr><td></td><td></td><td></td><td></td><td></td><td></td></tr><tr><td></td><td></td><td></td><td></td><td></td><td></td></tr><tr><td></td><td></td><td></td><td></td><td></td><td></td></tr><tr><td></td><td></td><td></td><td></td><td></td><td></td></tr><tr><td></td><td></td><td></td><td></td><td></td><td></td></tr></table>																																					
<p>Défi 2</p>	<p>Il y a _____ triangles dans la figure.</p>																																					
<p>Défi 3</p>	<p>Le problème de la maitresse est : _____.</p>																																					
<p>Défi 4</p>	<p>TOMA MALIA TIBO JADE </p>																																					
<p>Défi 5</p>	<p>La flèche qui touchera la balle est la flèche : </p>																																					
<p>Défi 6</p>	<p></p>																																					




Défi 7

○	+		♥
♥			
+	○		△
	♥	○	



Défi 8




Défi 9

$2 + 5$	$3 + 3$
$1 + 4$	$6 + 0$
$7 + 0$	$3 + 2 + 2$
$3 + 2$	$3 + 4$
$6 + 1$	$2 + 4$
$2 + 1 + 2$	$2 + 4 + 1$



Défi 10



Défi 11

Il y a _____ carrés.



Défi 12

La maison de la maitresse est la maison



VAL'ideas

TOTAL :