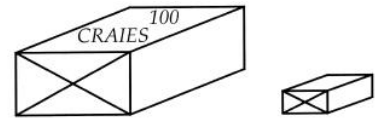


Les craies



1) Remplis le bon de commande :

Clients	Nombre de craies commandées	Boîtes de 100	Étuis de 10
M. Chabbi	725		
M. Durand	384		
M. Couzon	890		
Mme Masson	740		
M. Piat	403		
Mme Bérard.	900		

2) Complète le tableau sans faire de calcul.

Nombre de craies	Boîtes et étuis	Centaines et dizaines
80 craiesboîtes etétuis	80 c'estcentaines etdizaines
350 craiesboîtes etétuis	350 c'estcentaines etdizaines
930 craiesboîtes etétuis	930 c'estcentaines etdizaines
500 craiesboîtes etétuis	500 c'estcentaines etdizaines

3) Pour trouver ce qu'il fallait préparer pour une commande de craies, un élève a écrit :

$$362 = (3 \times 100) + (6 \times 10) + 2$$

Peux-tu dire combien cela fait de boîtes et d'étuis ?

Un autre élève a écrit :

$$100 + 100 + 100 + 100 + 100 + 10 + 10 + 10 + 10 + 10 + 10 + 5$$

Peux-tu dire combien cela fait de boîtes et d'étuis ?

4) Calcule le nombre de craies reçues par chaque client.

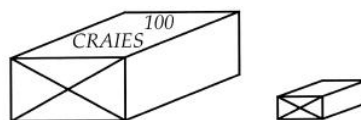
M. Martin a reçu 7 boîtes et 4 étuis. Il a maintenant craies.

Mme Chablis a commandé 9 boîtes et 7 étuis. Elle a reçu craies.

Mme Martin a reçu 6 boîtes. Elle a reçucraies.

M. Jean a commandé 25 étuis. Il a reçu craies.

Les craies



Un fabricant vend des craies par étuis de 10 et par boîtes de 100.
Le magasinier doit préparer les boîtes et les étuis pour les livraison.
Calcule combien d'étuis et de boîtes il doit préparer pour chaque client.

M. Aubin : 800 craies

M. Créon : 254 craies

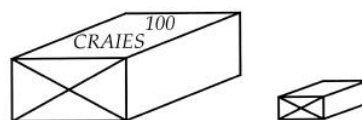
M. Elias : 78 craies

M. Béal : 430 craies

M. Durand : 60 craies

M. Fustier : 305 craies

Les craies



Un fabricant vend des craies par étuis de 10 et par boîtes de 100.
Le magasinier doit préparer les boîtes et les étuis pour les livraison.
Calcule combien d'étuis et de boîtes il doit préparer pour chaque client.

M. Aubin : 800 craies

M. Créon : 254 craies

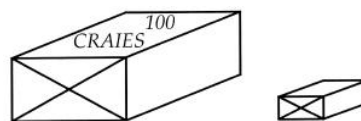
M. Elias : 78 craies

M. Béal : 430 craies

M. Durand : 60 craies

M. Fustier : 305 craies

Les craies



Un fabricant vend des craies par étuis de 10 et par boîtes de 100.
Le magasinier doit préparer les boîtes et les étuis pour les livraison.
Calcule combien d'étuis et de boîtes il doit préparer pour chaque client.

M. Aubin : 800 craies

M. Créon : 254 craies

M. Elias : 78 craies

M. Béal : 430 craies

M. Durand : 60 craies

M. Fustier : 305 craies