

# FICHE DE TRAVAIL DE JEUDI 9 AVRIL

## Français

### 1. Phrase du jour :

- Je colorie les noms en vert et les déterminants en jaune.
- Je souligne le verbe en rouge et j'écris son infinitif en dessous.
- Je recopie la phrase sur les lignes en remplaçant le lapin par la lapine.

### Le petit lapin gris dévore la belle salade.

devenir  
La petite lapine grise dévore la belle salade.

### 2. Le verbe : les verbes être et avoir (leçon de conjugaison p. 5 et 7)

Entoure le verbe être conjugué au présent en rouge et avoir en bleu.

- Tu vas à l'école.
- Vous avez faim ?
- Vous êtes très aimables.
- Il faut se lever
- Elle a mal au cœur.

### 3. Grammaire : le verbe (leçon de grammaire p.29)

Complète chaque phrase avec le verbe qui convient.

Rougir – es – monte – dorment – venons

- Je ...monte... à cheval chaque mercredi.
- Tu ...as... l'invité de l'émission.
- Nous ...venons... chaque dimanche.
- Lily ...rougît... de plaisir.
- Les ours sont ...dorment... dans leur tanière.

### 4. Dictée 3 de la semaine 19

des fees attirent des baguettes magiques.

### 5. Orthographe : la lettre c (leçon d'orthographe p. 5)

- Je repère les mots dans lesquels la lettre fait le son [s].
- Je souligne la lettre placée après la lettre c.

crabe – cinquante-cinq – une multiplication – une chemise – merci – l'acrobate – une limace – des choses – la leçon – une coccardelle

### 6. Lis et comprends

- je lis le texte
- je réponds à la question
- je souligne les mots qui m'ont aidé à répondre.

Frédéric descendit de son vélo et dit bonjour à Madame Dupré en lui tendant deux lettres et une carte postale.

Quel est le métier de Frédéric ?

Frédéric est facteur.

### 7. Ecris une phrase en utilisant les 4 mots suivants :

depuis-vert – voir – armoire

Exemple =  
Depuis hier, je vois l'armoire verte de ma chambre danser.

## Mathématiques :

### 1. Nombre

Ecris les nombres dictés (voir corps de l'article)

617    76    174    629    784  
500    737    488    329    429

### 2. Calcul (leçons de calcul p. 1 et p 37, table des 2)


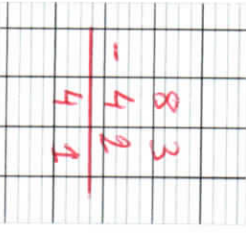
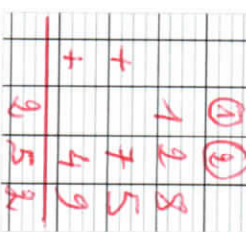
Calcul réfléchi :

Le double de 7 est ...14...  
la moitié de 18 est ...9...

Le double de 10 est ...20...  
100 est le double de ...50...

La moitié de 4 est ...2...  
Le double de 25 est ...50...

Calcul posé : pose et calcule

$186 + 45 = \dots\dots$ 	$83 - 42 = \dots\dots$ 	$128 + 75 + 49 = \dots\dots$ 
--	---	---

### 3. Géométrie :

Reproduis la figure avec la règle.

