


Vorname.....



Datum





DAS EURO-GELD: ÜBUNGEN 2.

Die Cent

Auf dem Weg zur Schule kaufe ich Bonbons, heute kaufe ich für 70 Cent. Mit welchen Münzen kann ich das bezahlen? Male drei Möglichkeiten.

--	--	--

Wie viel Geld besitze ich, wenn ich diese Münze in meinem Geldbeutel habe?

				Gesamtsumme
2	0	3	3 Cent
0	2	4	1 Cent
1	1	0	2 Cent
1	1	3	0 Cent
0	4	0	4 Cent

Münzen und Scheine.

Wie viel Geld macht das?





		

Wechsle diese Summe gegen:



1 Schein	3 Scheine

Wie viel Geld macht das?

	
..... € Cent € Cent
	
..... € Cent € Cent