

Découverte

M. Delon veut aider Franck à trouver de la documentation sur les hiéroglyphes.
 A la bibliothèque municipale, il est tombé sur des reproductions
 de tablettes anciennes.

Il s'agit de la quantité de têtes de bétail capturées
 après une bataille durant laquelle le Pharaon Manu-Ré fut victorieux.
 Aide-nous à comprendre comment fonctionnait la numération égyptienne.

34 302

Chèvres

203 140

Moutons





221 456

Vaches

Enfin, une dernière tablette indique le nombre d'habitants de son royaume:

habitants

A l'aide des tablettes, complète le tableau ci-dessous:

						
1 000 000		10 000	1 000		10	

Ecris avec les chiffres égyptiens les nombres suivants:

18

608

20 301

70 208

190 909

201 008

10 009

Je m'entraîne

1) Passer de notre système décimal à la numération égyptienne.

159 =

10 600 =

45 341 =

386 000 =

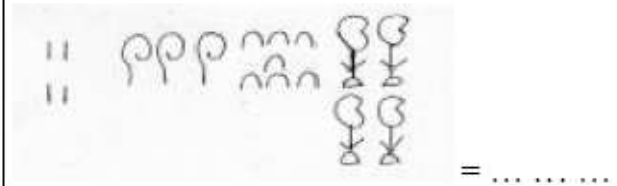
1427 539 =

Explique comment tu as fait.

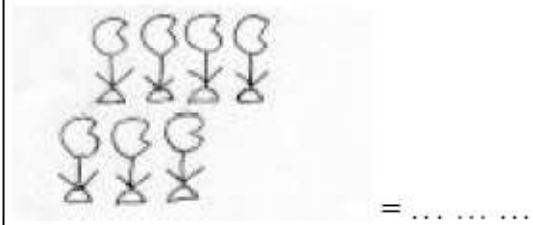
2) Passer de la numération égyptienne à la numération décimale.



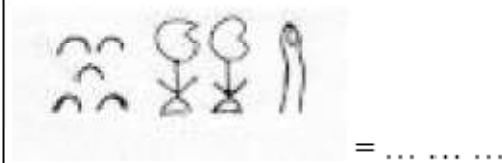
..... + +



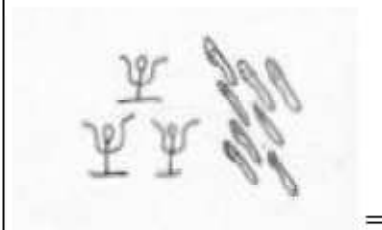
..... + + +



.....



..... + +



..... +

Explique comment tu as fait.