




**Tracer des
droites
perpendiculaires**



**Tracer des
droites
perpendiculaires
correction**



Comment faire l'atelier ?

1. Prends une fiche.
2. Trace les droites demandées.
3. Vérifie tes tracés avec le calque de correction.
4. Colle ta fiche dans ton cahier.

Trace la droite perpendiculaire passant par A

1

(D_1)

A

Trace la droite perpendiculaire passant par A

2

A_x

(D_2)

Trace la droite perpendiculaire passant par A

3

A_x

(d_3)

A =

Trace la droite perpendiculaire passant par A

4

A

360

Trace la droite perpendiculaire passant par A

5

(D₁)

A

Trace la droite perpendiculaire passant par A

6

A_X

(D₂)

Trace la droite perpendiculaire passant par A

7

A_X

(d₃)

A =

Trace la droite perpendiculaire passant par B

8

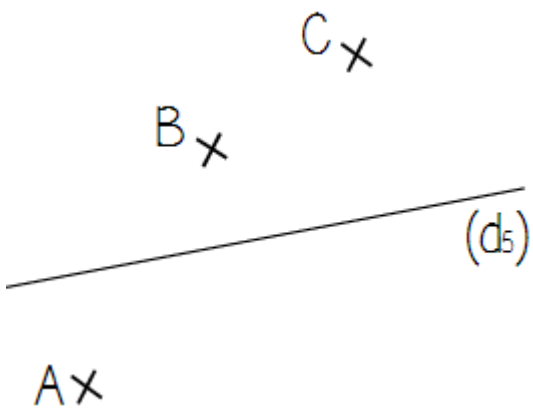
B_X

Geometry

360

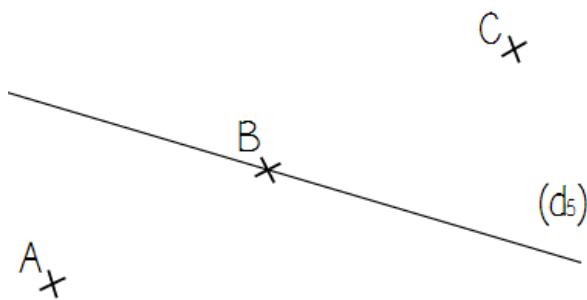
Trace la droite perpendiculaire passant par A, B, C

9



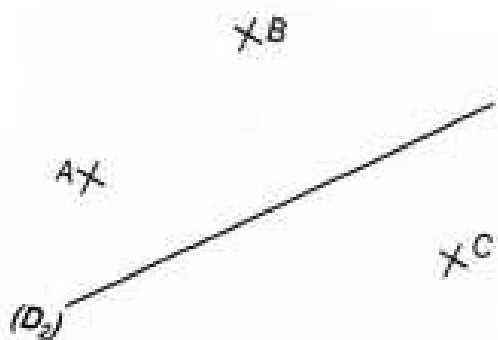
Trace la droite perpendiculaire passant par A, B, C

10



Trace la droite perpendiculaire passant par A, B, C

11



Trace la droite perpendiculaire passant par A, B

12



Geometry