

-1

+1



-10

+10




-100

+100



Le nombre, en lettres



Le nombre, en chiffres

m

c

d

u

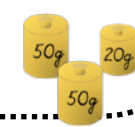


Avec des opérations...


$_____ = _____$   
 $_____ = _____$   
 $_____ = _____$



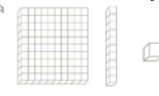
Avec les masses




Avec les euros




Avec le matériel





Les groupes



Les rectangles

L'opération

$\square \times \square = \square \times \square$

Avec les additions ...



Les familles

\_\_\_\_\_ x \_\_\_\_\_ = \_\_\_\_\_

\_\_\_\_\_ x \_\_\_\_\_ = \_\_\_\_\_

\_\_\_\_\_ : \_\_\_\_\_ = \_\_\_\_\_

\_\_\_\_\_ : \_\_\_\_\_ = \_\_\_\_\_



