

Nom :

Prénom :

Noémie a 67 €. Elle achète une jupe à 28 € et des chaussures à 34 €.

Combien doit-elle payer ?

.....

Combien d'argent lui reste-t-il ?

.....

Mon calcul :

Mon calcul :

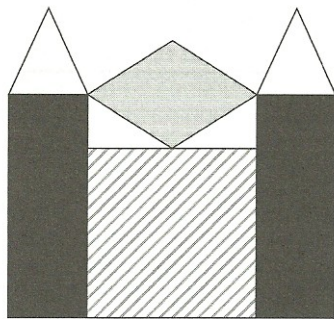
Complète le texte avec les mots :

carré - triangles - losange - rectangle - côté - sommet .

Ce dessin

.....
.....

Chaque rectangle



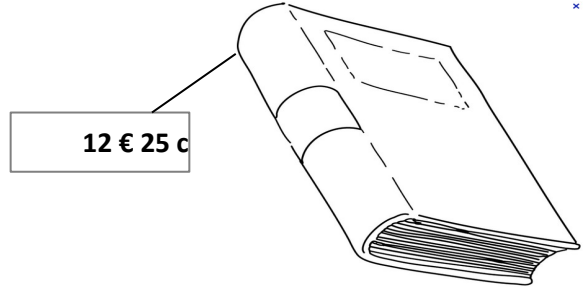
leux noirs, un

..... gris et deux


..... en commun avec un

; en commun avec le losange.

Entoure les billets et les pièces nécessaires pour payer ce livre.



Mesure la longueur de chaque segment



Longueur du segment AB : cmmm.



Longueur du segment CD : cmmm.