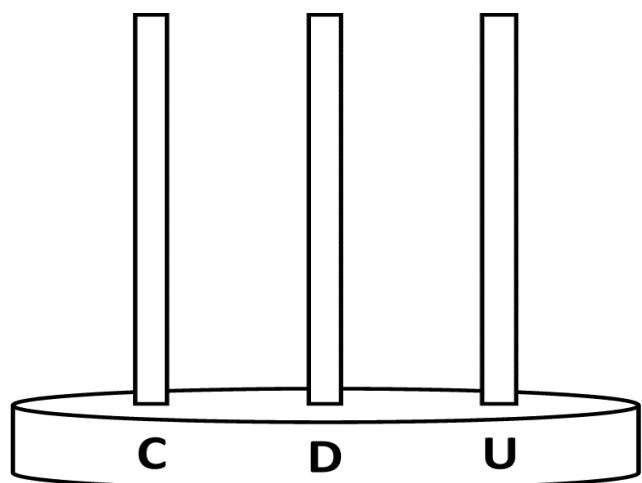
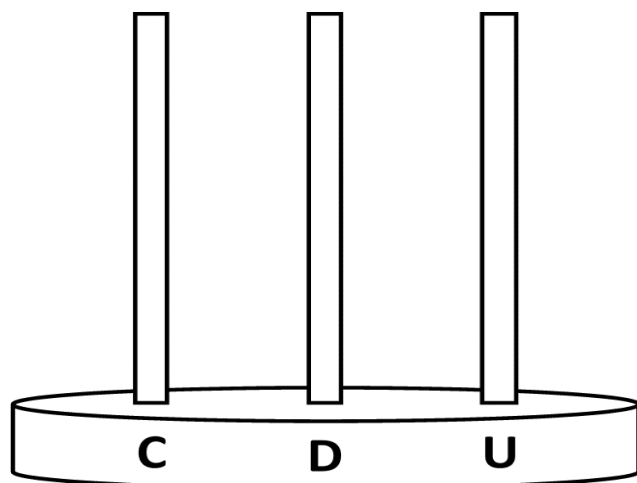


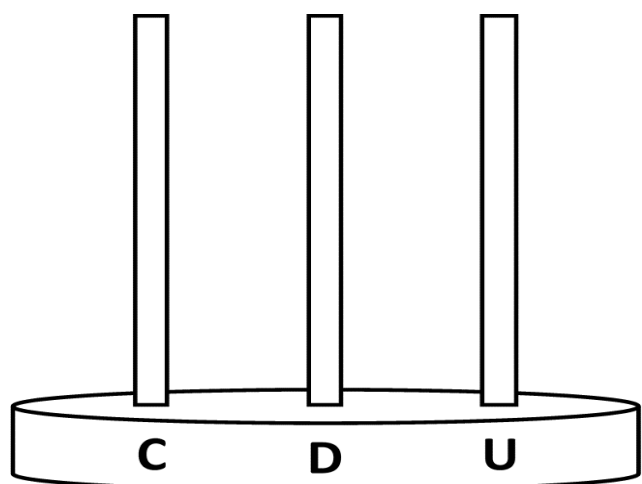
Dessine les billes
du nombre 58



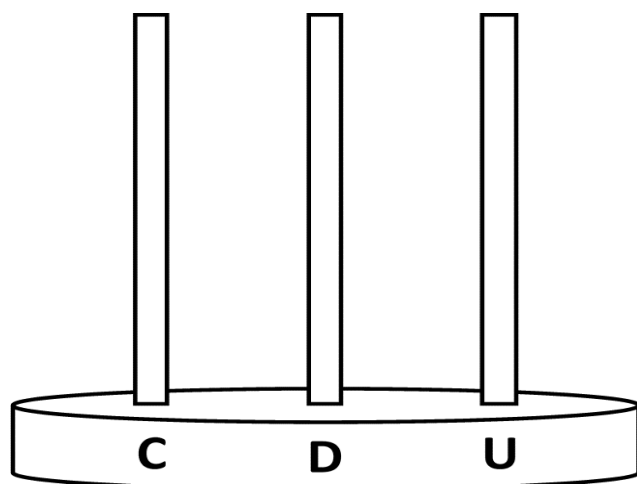
Dessine les billes
du nombre 64



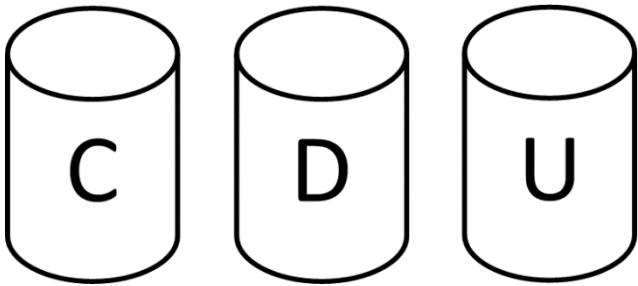
Dessine les billes
du nombre 51



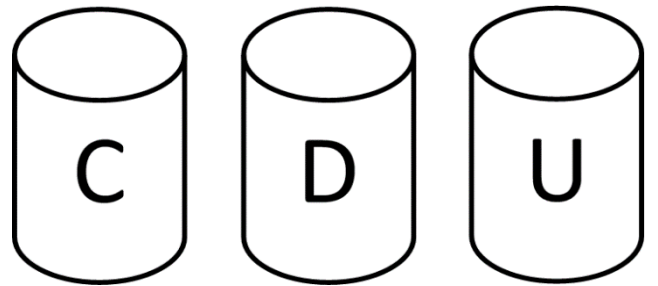
Dessine les billes
du nombre 67



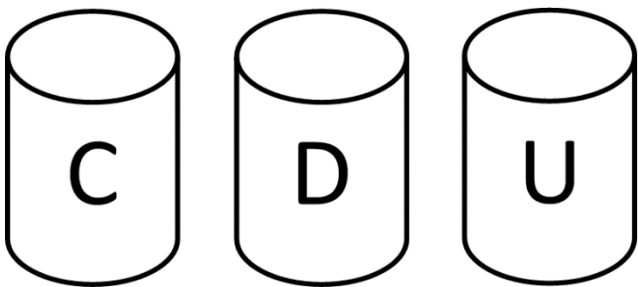
Dessine les pailles
du nombre 52



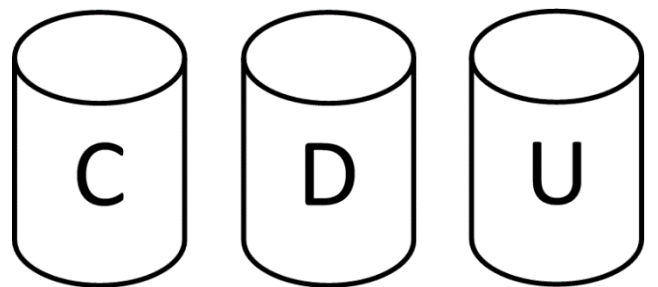
Dessine les pailles
du nombre 75



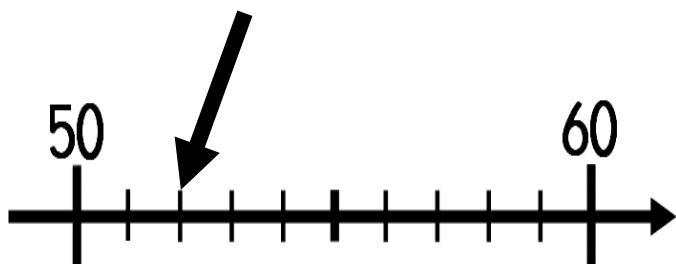
Dessine les pailles
du nombre 61



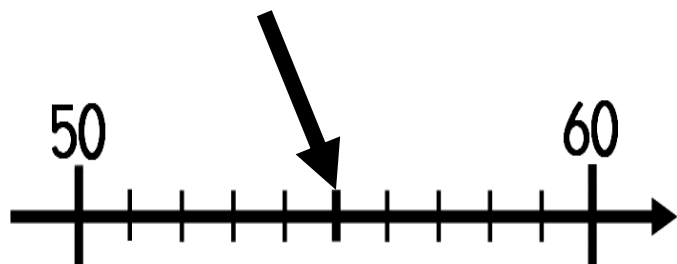
Dessine les pailles
du nombre 59



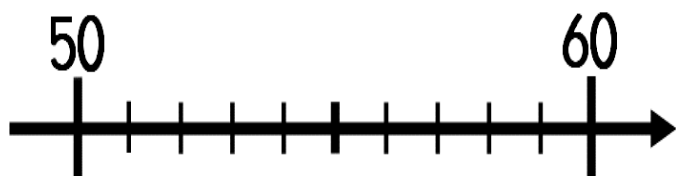
Écris le nombre



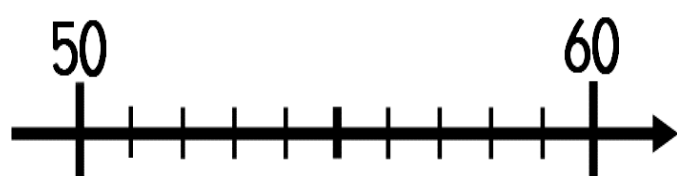
Écris le nombre



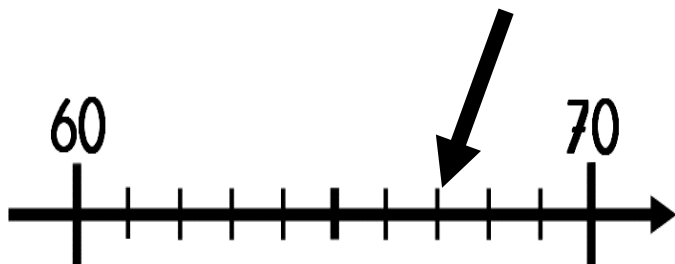
Place le nombre
51



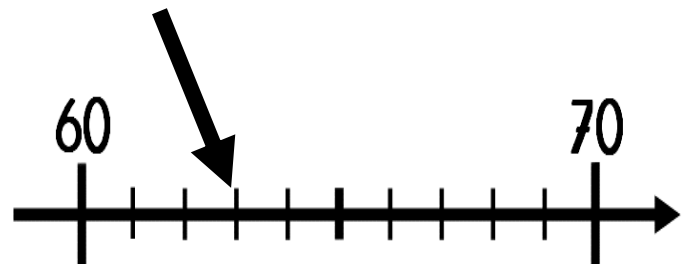
Place le nombre
56



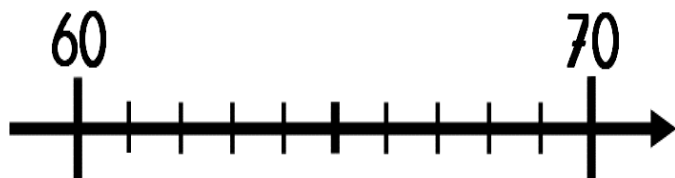
Écris le nombre



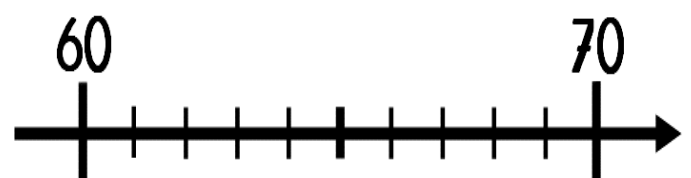
Écris le nombre



Place le nombre
66



Place le nombre
69




Écris la somme

_____ €



Écris la somme

_____ €



Écris la somme

_____ €




Écris la somme

_____ €




Dessine la somme

58 €




Dessine la somme

70 €




Dessine la somme

60 €



Dessine la somme

65 €



Écris en lettres le
nombre 56

Écris en lettres le
nombre 61

Écris en lettres le
nombre 63

Écris en lettres le
nombre 54



Écris en lettres le
nombre 59

Écris en lettres le
nombre 65

Écris en lettres le
nombre 74

Écris en lettres le
nombre 67



Range les nombres du plus petit au plus grand

49 2 13
60 51

Range les nombres du plus petit au plus grand

18 42 1
27 58

Range les nombres du plus petit au plus grand

62 56 68
52 47

Range les nombres du plus petit au plus grand

24 75 9
19 44



Indique un nombre plus petit et un nombre plus grand que :

	59	
--	-----------	--

Indique un nombre plus petit et un nombre plus grand que :

	62	
--	-----------	--

Indique un nombre plus petit et un nombre plus grand que :

	70	
--	-----------	--

Indique un nombre plus petit et un nombre plus grand que :

	54	
--	-----------	--



Calcule

$$10 + 10 + 10 + 10 + 5 =$$

Calcule

$$10 + 10 + 10 + 10 + 10 + 2 =$$

Calcule

$$10 + 10 + 10 + 10 + 10 + 3 =$$

Calcule

$$10 + 10 + 10 + 10 + 4 =$$



Calcule

$$20 + 30 =$$

Calcule

$$20 + 20 + 20 =$$

Calcule

$$40 + 20 =$$

Calcule

$$50 + 20 =$$



Calcule

$$2 + \underline{\quad} = 10$$

$$7 + \underline{\quad} = 10$$

$$9 + \underline{\quad} = 10$$

Calcule

$$\underline{\quad} + 4 = 10$$

$$\underline{\quad} + 5 = 10$$

$$\underline{\quad} + 8 = 10$$

Calcule

$$8 + 8 = \underline{\quad}$$

$$3 + 3 = \underline{\quad}$$

$$6 + 6 = \underline{\quad}$$

Calcule

$$9 + 9 = \underline{\quad}$$

$$5 + 5 = \underline{\quad}$$

$$10 + 10 = \underline{\quad}$$



Calcule

$$1 + \underline{\quad} = 10$$

$$3 + \underline{\quad} = 10$$

$$0 + \underline{\quad} = 10$$

Calcule

$$\underline{\quad} + 10 = 10$$

$$\underline{\quad} + 7 = 10$$

$$\underline{\quad} + 6 = 10$$

Calcule

$$2 + 2 = \underline{\quad}$$

$$5 + 5 = \underline{\quad}$$

$$7 + 7 = \underline{\quad}$$

Calcule

$$1 + 1 = \underline{\quad}$$

$$9 + 9 = \underline{\quad}$$

$$0 + 0 = \underline{\quad}$$

