


# géométrie


CMI



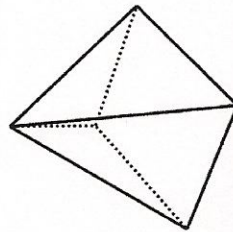
16/06/2020

PRÉNOM: Jean-Luc  
Gaelle

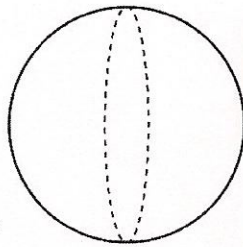
① Les figures sont-elles des polyèdres ?



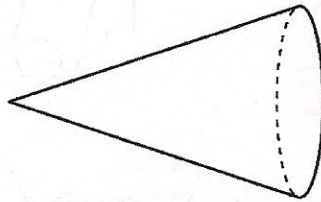
Oui Non




Oui Non




Oui Non



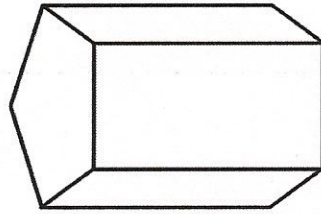
Oui Non



Oui Non


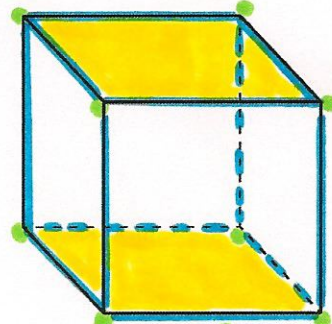



Oui Non



Oui Non

② Observe ces solides, puis réponds aux questions.

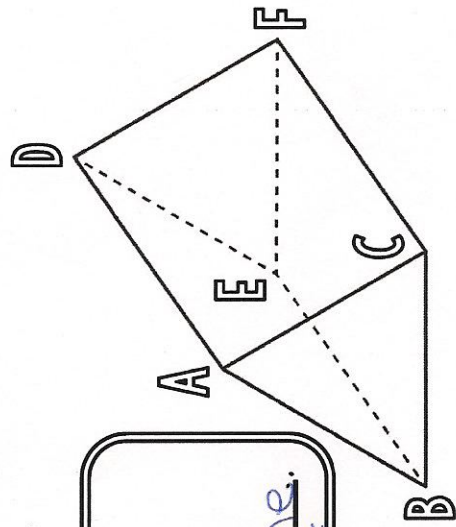


- Marque leurs sommets en vert.
- Repasse leurs arêtes en bleu.
- Colorie deux faces opposées en jaune.

Plusieurs solutions possibles.

③ a) Découpe cette figure.

Le solide est un prisme droit.



- Nombre ses 2 bases.
- Quelle forme ont les bases de ce solide ?
- Nombre les faces, les arêtes et les sommets de ce solide.

géométrie / les solides